

2 айфусина 10 А К 201

**Муниципальный этап всероссийской олимпиады школьников
по физической культуре 2023 - 2024 учебный год
Теоретическая часть: 9 – 11 класс**

Инструкция по выполнению заданий

Вам предлагаются задания, основанные на содержании основной образовательной программы основного общего образования.

Задания объединены в 7 групп:

1 группа (1 – 13 вопросы). Задания в закрытой форме, с предложенными вариантами ответов. Задания представлены в форме незавершенных утверждений, которые, при завершении, могут оказаться либо истинными, либо ложными. Правильным является то, которое наиболее полно соответствует смыслу утверждения. При выполнении этих заданий, необходимо выбрать только один правильный ответ!

2 группа (14 - 16 вопросы). Задания в закрытой форме, с несколькими предложенными вариантами ответов. Это условие указано в задании «Отметьте все позиции!». При выполнении этих заданий, необходимо выбрать несколько правильных ответов.

Выбранные варианты ответов группы 1 и 2 отмечаются зачеркиванием соответствующего квадрата в бланке ответов.

3 группа (17 вопрос). Задания в которых необходимо установить последовательность предложенных вариантов ответов. Ответы вписывайте в соответствующую графу бланка ответов. Жюри оценивает каждую, представленную позицию.

4 группа (18 - 26 вопрос). Задания в открытой форме, то есть, без предложенных вариантов ответов. При выполнении этого задания, необходимо самостоятельно подобрать вариант ответа, который, завершая высказывание, образует истинное утверждение. Подобранный ответ вписывайте в соответствующую графу бланка ответов. Записи должны быть разборчивыми. Жюри оценивает каждую представленную Вами позицию.

5 группа (27 - 28 вопрос). Визуальные задания, в которых необходимо написать вариант ответа, который соответствует представленной картинке. Ответы вписывайте в соответствующую графу бланка ответов. Жюри оценивает каждую, представленную позицию.

6 группа (29 вопрос). Задание-задача. По представленным данным следует ответить на поставленные вопросы. Записи выполняйте в бланке ответов.


7 группа (30 вопрос). Задание, в котором необходимо установить соответствие между предложенными вариантами.

Внимательно читайте задания и предлагаемые варианты ответов. Старайтесь не угадывать, а логически обосновывать сделанный Вами выбор. Пропускайте незнакомые задания. Это позволит сэкономить время для выполнения других заданий. Впоследствии, Вы сможете вернуться к пропущенному заданию.

Все ответы на предложенные задания вписываются в бланк ответов! Будьте внимательны, делая записи в бланке ответов. Исправления и подчистки оцениваются как неправильный ответ.

Время выполнения заданий – 45 минут!

Желаем удачи!



17. 264513 30. 18. бет -

19. оттапкивание 25 20. отлеючение 25

21. U 25 22. фиксация 25

23. ~~И~~место не устоявована 25 24. САНЧ 25

25. кольцо 05 26. Иван Семенов 25

27.

1. оборот вперед на перебедаме 1 2. стойка на голове и руках 1

3. вил согнувшись сверху 1 4. подъем разбега в сер ноги брызг 1

5. ~~XXXXXXXXXX~~ -

28. XXII 0,25 0,25 -
1. ~~XXXX~~ II, Токио, Япония, 2019 год 0,75

2. -
3. XXIII, Москва, СССР, 1980 год 15

29.
1. ~~XXXXII, Токио, Япония, 2020г.~~ -

2. -

3. -

4. -

30.

1	2	3	4	5	6	7	8
134	258	376	465	587	742621	712	843

05

85

30,75 + 10 =
40,75 / 20,5

Муниципальный этап всероссийской олимпиады школьников по физической культуре 2023 – 2024 учебный год Теоретико - методическое задание 9 – 11 класс

БЛАНК ОТВЕТОВ

Шифр _____

1
4
1
1
1
1
+
+
+
+
+
+
+
+
+
+

№ вопроса	Варианты ответов					
1	<input checked="" type="radio"/> А	<input type="radio"/> Б	<input checked="" type="radio"/> В	<input type="radio"/> Г	---	---
2	<input type="radio"/> А	<input checked="" type="radio"/> Б	<input type="radio"/> В	<input type="radio"/> Г	---	---
3	<input checked="" type="radio"/> А	<input type="radio"/> Б	<input type="radio"/> В	<input checked="" type="radio"/> Г	---	---
4	<input checked="" type="radio"/> А	<input checked="" type="radio"/> Б	<input type="radio"/> В	<input type="radio"/> Г	---	---
5	<input type="radio"/> А	<input type="radio"/> Б	<input type="radio"/> В	<input checked="" type="radio"/> Г	---	---
6	<input checked="" type="radio"/> А	<input checked="" type="radio"/> Б	<input checked="" type="radio"/> В	<input type="radio"/> Г	---	---
7	<input checked="" type="radio"/> А	<input type="radio"/> Б	<input type="radio"/> В	<input type="radio"/> Г	---	---
8	<input type="radio"/> А	<input checked="" type="radio"/> Б	<input type="radio"/> В	<input type="radio"/> Г	---	---
9	<input checked="" type="radio"/> А	<input checked="" type="radio"/> Б	<input type="radio"/> В	<input checked="" type="radio"/> Г	---	---
10	<input checked="" type="radio"/> А	<input type="radio"/> Б	<input type="radio"/> В	<input checked="" type="radio"/> Г	---	---
11	<input checked="" type="radio"/> А	<input type="radio"/> Б	<input type="radio"/> В	<input type="radio"/> Г	---	---
12	<input checked="" type="radio"/> А	<input type="radio"/> Б	<input type="radio"/> В	<input type="radio"/> Г	---	---
13	<input checked="" type="radio"/> А	<input type="radio"/> Б	<input type="radio"/> В	<input type="radio"/> Г	---	---
14	<input checked="" type="radio"/> А	<input checked="" type="radio"/> Б	<input checked="" type="radio"/> В	<input type="radio"/> Г	<input checked="" type="radio"/> Д	---
15	<input type="radio"/> А	<input checked="" type="radio"/> Б	<input checked="" type="radio"/> В	<input type="radio"/> Г	<input type="radio"/> Д	<input checked="" type="radio"/> Е
16	<input type="radio"/> А	<input checked="" type="radio"/> Б	<input checked="" type="radio"/> В	<input type="radio"/> Г	<input checked="" type="radio"/> Д	<input checked="" type="radio"/> Е

105.115.115.

Муниципальный этап всероссийской олимпиады школьников
по физической культуре 2023 - 2024 учебный год
Теоретическая часть: 9 – 11 класс

Инструкция по выполнению заданий

Вам предлагаются задания, основанные на содержании основной образовательной программы основного общего образования.

Задания объединены в 7 групп:

1 группа (1 – 13 вопросы). Задания в закрытой форме, с предложенными вариантами ответов. Задания представлены в форме незавершенных утверждений, которые, при завершении, могут оказаться либо истинными, либо ложными. Правильным является то, которое наиболее полно соответствует смыслу утверждения. При выполнении этих заданий, необходимо выбрать только один правильный ответ!

2 группа (14 - 16 вопросы). Задания в закрытой форме, с несколькими предложенными вариантами ответов. Это условие указано в задании «Отметьте все позиции!». При выполнении этих заданий, необходимо выбрать несколько правильных ответов.

Выбранные варианты ответов группы 1 и 2 отмечаются зачеркиванием соответствующего квадрата в бланке ответов.

3 группа (17 вопрос). Задания в которых необходимо установить последовательность предложенных вариантов ответов. Ответы вписывайте в соответствующую графу бланка ответов. Жюри оценивает каждую, представленную позицию.

4 группа (18 - 26 вопрос). Задания в открытой форме, то есть, без предложенных вариантов ответов. При выполнении этого задания, необходимо самостоятельно подобрать вариант ответа, который, завершая высказывание, образует истинное утверждение. Подобранный ответ вписывайте в соответствующую графу бланка ответов. Записи должны быть разборчивыми. Жюри оценивает каждую представленную Вами позицию.

5 группа (27 - 28 вопрос). Визуальные задания, в которых необходимо написать вариант ответа, который соответствует представленной картинке. Ответы вписывайте в соответствующую графу бланка ответов. Жюри оценивает каждую, представленную позицию.

6 группа (29 вопрос). Задание-задача. По представленным данным следует ответить на поставленные вопросы. Записи выполняйте в бланке ответов.

7 группа (30 вопрос). Задание, в котором необходимо установить соответствие между предложенными вариантами.

Внимательно читайте задания и предлагаемые варианты ответов. Старайтесь не угадывать, а логически обосновывать сделанный Вами выбор. Пропускайте незнакомые задания. Это позволит сэкономить время для выполнения других заданий. Впоследствии, Вы сможете вернуться к пропущенному заданию.

Все ответы на предложенные задания вписываются в бланк ответов! Будьте внимательны, делая записи в бланке ответов. Исправления и подчистки оцениваются как неправильный ответ.

Время выполнения заданий – 45 минут!

Желаем удачи!

1. На каком расстоянии от мяча ставится «стенка», при выполнении штрафного удара в футболе?

- а) не ближе 7,25 м
- б) не ближе 9 м
- в) не ближе 9,15 м
- г) не ближе 11 м

2. Как называлась песня дуэта Монсеррат Кабалье и Фредди Меркьюри, ставшая гимном Игр XXV Олимпиады?

- а) Мельбурн
- б) Барселона
- в) Атланта
- г) Мюнхен

3. С какого расстояния производится стрельба из электронного и пневматического оружия при сдаче норм ВФСК «ГТО»?

- а) 10 м
- б) 13 м
- в) 12 м
- г) 15 м

4. В каком году состоялись первые Игры доброй воли в Москве?

- а) в 1986 году
- б) в 1987 году
- в) в 1988 году
- г) в 1990 году

5. Вид движения, которое направлено в сторону от срединной части тела вокруг сагиттальной оси?

- а) супинация
- б) отведение
- в) пронация
- г) приведение

6. Какой способ удара по мячу в футболе, считается самым сильным?

- а) пяткой
- б) серединой подъёма
- в) внешней стороной стопы
- г) внутренней стороной стопы

7. В программу первых Олимпийских зимних игр 1924 года в Шамони, было включено два вида лыжного спорта...

- а) гонки на 18 и 50 км среди мужчин
- б) гонки на 10 и 30 км среди мужчин
- в) гонки на 10 и 20 км
- г) гонки на 8 и 15 км

8. Сколько огневых рубежей, в биатлонной эстафетной гонке, проходит каждая команда?

- а) 4 огневых рубежа
- б) 8 огневых рубежей
- в) 12 огневых рубежей
- г) 16 огневых рубежей

9. Как лыжники и биатлонисты называют кубок мира, который получает спортсмен по итогам зачётных индивидуальных гонок текущего соревновательного года?

- а) кубок лыжни
- б) золотой глобус
- в) король лыжни
- г) большой хрустальный глобус

10. В ланте место, откуда совершаются перебежки игроками, выполнившими удары по мячу...

- а) город
- б) околица
- в) городище
- г) пригород

11. Для обозначения координат на шахматной доске используются буквы и цифры. Цифрами обозначают...

- а) диагонали
- б) горизонтали
- в) первую вертикаль
- г) вертикали

12. Кто из гимнасток получил прозвище «королева брусев» за исполнение очень сложных элементов на этом снаряде?

- а) Светлана Хоркина
- б) Ольга Корбут
- в) Людмила Турищева
- г) Лариса Латынина

13. Как называются церемонии, которые проходят на объектах соревнований сразу после объявлений результатов?

- а) цветочные церемонии
- б) торжественные церемонии
- в) медальные церемонии
- г) поздравительные церемонии

14. Отметьте новые дисциплины, включённые в программу XXIV Олимпийских зимних игр в Пекине 2022. Отметьте все позиции!

- а) командные соревнования в горнолыжном спорте
- б) смешанная эстафета в шорт-треке
- в) смешанные командные соревнования по фристайлу в акробатике
- г) мужские одиночные соревнования по скелетону
- д) женские одиночные соревнования по бобслею
- е) масс-старт в конькобежном спорте (мужчины и женщины)

15. Какие из представленных упражнений принято называть скоростно-силовыми?

Отметьте все позиции!

- а) бег на 100 м
- б) метание мяча на дальность
- в) прыжки в длину с места
- г) отжимания в упоре лёжа
- д) лазание по канату
- е) прыжки в высоту

16. Отметьте основные средства для развития общей выносливости.

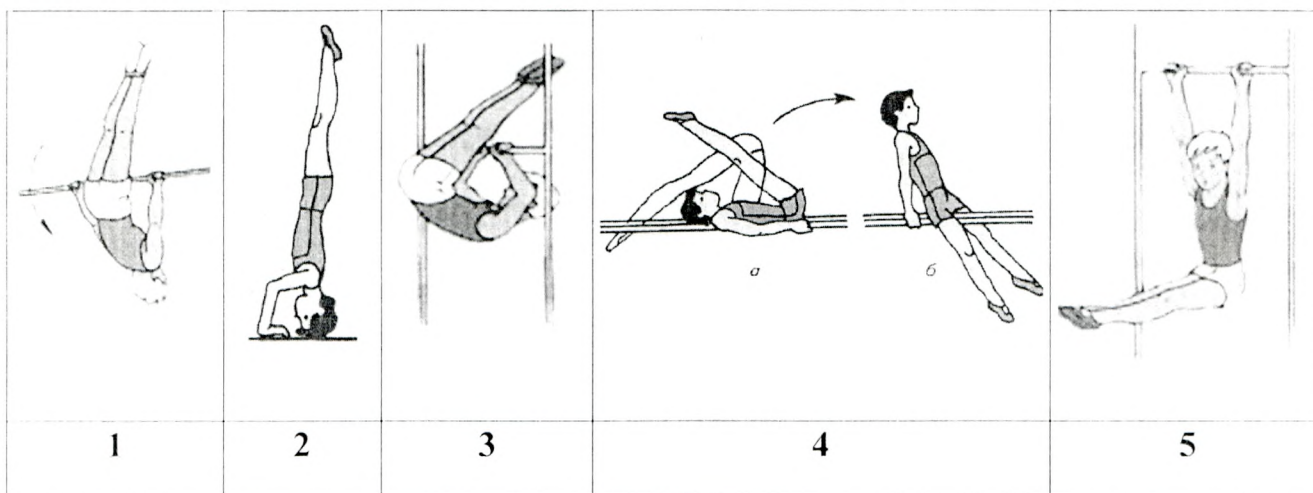
Отметьте все позиции!

- а) единоборства
- б) длительный кросс
- в) передвижение на лыжах
- г) упражнения силового характера
- д) езда на велосипеде
- е) плавание

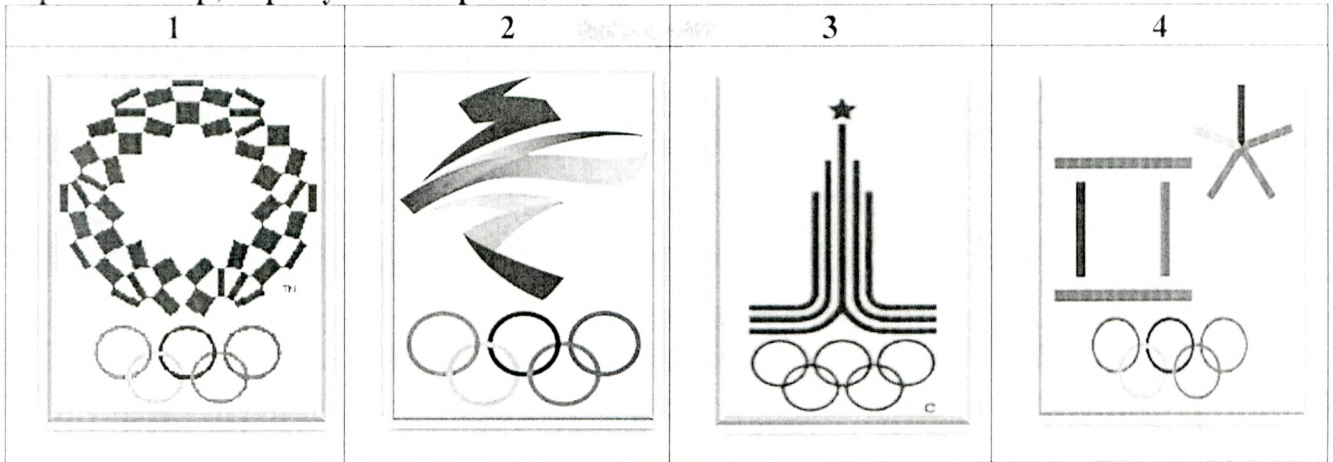
17. Установите правильную последовательность выполнения упражнений для освоения опорного прыжка ноги врозь.

1. С 2-3 шагов разбега вскок в упор стоя согнувшись ноги врозь и соскок прогнувшись.
2. В упоре лёжа отталкивание руками с хлопком в ладони.
3. Прыжок ноги врозь через козла с разбега с помощью и самостоятельно.
4. В упоре лёжа прогнуться и одновременно отталкиваясь руками и ногами, прийти в стойку ноги врозь.
5. С 2-3 шагов разбега вскок в упор присев на козла и соскок ноги врозь.
6. Из упора лёжа толчком ног перейти в упор стоя согнувшись ноги врозь и быстро выпрямиться.

18. Самый престижный вид соревнований Олимпийских игр в Древней Греции...
19. Элемент прыжка, бега и других упражнений, обеспечивающий продвижение тела спортсмена вперед-вверх. Выполняется путем разгибания опорной ноги или двух ног.
20. Внешнее сопротивление движению (гирия, штанга), усложняющее выполнение упражнения, способствующее увеличению мышечных усилий.
21. Какая латинская буква выступает обязательным элементом логотипа Всемирных студенческих игр?
22. Обусловленное правилами соревнований неподвижное положение атлета со штангой над головой на выпрямленных руках, ноги и туловище прямые, ступни ног на одной линии, параллельной грифу.
23. Какое место в неофициальном медальном зачёте заняла сборная СССР на Играх XXIII Олимпиады?
24. Спортивный снаряд, применяемый спортсменами для спуска по ледяной трассе. Состоит из двух полозьев, двух лонжеронов, двух поперечных кронштейнов и обтекателя. Гонщик, управляет снарядом лежа на спине, надавливая ногами на полозья или прилагая усилия на ручки переднего кронштейна.
25. Часть сектора для толкания ядра, покрывает кольцо круга для толкания сверху и совпадает с ним внутренней поверхностью.
26. Напишите Фамилию Имя первого олимпийца Красноярского края, принимавшего участие в Играх XV Олимпиады в Хельсинки.
27. В бланке ответов запишите названия гимнастических упражнений и положений, представленных на рисунках.



28. По представленным эмблемам напишите номер Олимпийских игр, город-организатор, страну и год проведения.



29. ЗАДАЧА.


Используя представленную сетку турнира по футболу ответьте на вопросы.

1. Какие команды встретились в финале турнира?
2. Какая команда стала победителем турнира?
3. С какой стадии соревнований начался турнир по футболу?
4. До какой стадии соревнований дошла команда Алания?



30. Установите соответствие между Фамилией, Именем и видом спорта в котором выступали прославленные спортсмены Красноярского края.

Фамилия		Имя		Вид спорта	
1	Олопин	1	Светлана	1	скелетон
2	Шумаков	2	Никита	2	Лёгкая атлетика
3	Сидько	3	Николай	3	биатлон
4	Труненок	4	Евгений	4	сноуборд
5	Сухарнова	5	Алексей	5	бобслей
6	Трегубов	6	Дмитрий	6	Лыжные гонки
7	Мастеркова	7	Алёна	7	баскетбол
8	Успогов	8	Ольга	8	Греко-римская борьба



Министерство образования 8

Муниципальный этап всероссийской олимпиады школьников
по физической культуре 2023 – 2024 учебный год
Теоретико - методическое задание 7 – 8 класс

БЛАНК ОТВЕТОВ

Шифр ФК 202

№ вопроса	Варианты ответов							
1 +	А	Б	В	Г				
2 +	А	Б	В	Г				
3 -	А	Б	В	Г				
4 +	А	Б	В	Г				
5 +	А	Б	В	Г				
6 +	А	Б	В	Г				
7 -	А	Б	В	Г				
8 +	А	Б	В	Г				
9 +	А	Б	В	Г				
10 -	А	Б	В	Г				
11 +	А	Б	В	Г				
12 +	А	Б	В	Г				
13 +	А	Б	В	Г				
14 +	А	Б	В	Г				
15 +	А	Б	В	Г				
16 +	А	Б	В	Г				
17 +	А	Б	В	Г				
18 +	А	Б	В	Г				
19 +	А	Б	В	Г	Д	Е		
20 +	А	Б	В	Г	Д	Е	Ж	З

266

+ 36

h	4	3	2	1
	5	4	3	2

28.

opryskacz	3	2	1
rozpryskiwacz	4	3	2

27.

26.1- emulgacja +
 2- emulgator +
 3- ciężka +
 4- rozpuszczalnik +
 5- olej +
 6- emulsja +

25. mowa +

24. 2 +

23. białko +

22. 2018 +

21. 4000 -

11. Кто из отечественных гимнастов занимает второе место в истории Олимпийских игр по количеству завоёванных олимпийских медалей (18) во всех видах спорта, из которых 9 были золотыми?

- а) Людмила Турищева
 б) Лариса Латынина
 в) Николай Андрианов
 г) Алексей Немов

12. Какой национальности был инициатор возрождения Олимпийских игр и олимпийского движения Пьер де Кубертен?

- а) итальянец
 б) грек
 в) француз
 г) немец

13. Спортсмены с нарушением слуха, зрения и опорно-двигательного аппарата участвуют в международных спортивных соревнованиях которые называются...

- а) Игры Паралимпийцев
 б) Игры Паралимпиады
 в) Паралимпийские игры
 г) Адаптивные игры

14. При передвижении на лыжах по дистанции необходимо строго соблюдать интервалы между занимающимися. Они должны составлять...

- а) по равнине 1-2 м, при спусках не менее 10 м
 б) по равнине 2-3 м, при спусках не менее 20 м
 в) по равнине 3-4 м, при спусках не менее 30 м
 г) по равнине 4-5 м, при спусках не менее 40 м

15. Сколько точек для вбрасывания шайбы на площадке для игры в хоккей?

- а) 4 точки
 б) 5 точек
 в) 8 точек
 г) 9 точек

16. Продолжительность игры в гандбол составляет ...

- а) Два тайма по 30 мин.
 б) Два тайма по 45 мин.
 в) Четыре четверти по 15 мин.
 г) Три периода по 20 мин.

17. Какие цвета используются в боксе для обозначения углов ринга?

- а) красный, синий
 б) синий, белый
 в) красный, синий, белый
 г) синий, зелёный, белый

18. Какой вариант перемещения используется для подъёма в гору на лыжах?

Отметьте все позиции!

- а) «ёлочкой»
 б) «упором»
 в) «шлугом»
 г) «лесенкой»

19. Что из перечисленного относится к слагаемым здорового образа жизни человека?

Отметьте все позиции!

- а) внешняя среда
 б) режим дня
 в) прохождение диспансеризации
 г) гигиенические факторы
 д) рациональное питание
 е) отпуск

20. Лёгкая атлетика представлена большим количеством соревновательных упражнений, которые объединены в...

Отметьте все позиции!

- | | |
|-------------------|-----------------|
| а) метания | д) запрыгивания |
| б) перепрыгивания | е) прыжки |
| в) ходьбу | ж) догонялки |
| г) многоборья | з) бег |

21. Сколько лет отделяет XXII Олимпийские зимние игры от Игр XXII Олимпиады?

22. В каком году, в России, проводился Чемпионат мира по футболу?

23. На 138-й сессии Международного олимпийского комитета было единогласно принято решение впервые в истории изменить олимпийский девиз. К фразе «Быстрее, выше, сильнее» было добавлено слово «___?___».

24. Сколько огневых рубежей преодолевает спортсмен во время эстафеты в биатлонной гонке?

25. Один временной отрезок игры в футболе, равный 45 минутам, называется...

26. Вставьте пропущенные слова в Государственный гимн России.

Широкий простор для мечты и для ___ 1 ___

Грядущие нам ___ 2 ___ года.

Нам ___ 3 ___ дает ___ 4 ___ верность Отчизне.

Так ___ 5 ___, так ___ 6 ___ и так будет всегда!

27. Определите вид спорта по представленным картинкам.



28. Установите соответствие между прославленными спортсменами Челябинской области и видом спорта, в котором они выступали.

Спортсмен		Вид спорта	
1	Шумаков Алексей	1	Скелетон
2	Медведева Ольга	2	Лыжные гонки
3	Сидько Алена	3	Греко-римская борьба
4	Третьяков Александр	4	Лёгкая атлетика
5	Мастеркова Светлана	5	Биатлон

1. Расстояние, пройденное лыжником с момента постановки маховой ноги на снег до начала отталкивания.

- а) длина скользящего шага
- б) траектория скользящего шага
- в) амплитуда скользящего шага
- г) проекция скользящего шага

2. Жёлтая карточка в футболе означает...

- а) замечание
- б) удаление
- в) предупреждение
- г) выговор

3. В какой стране проводились I Олимпийские зимние игры?

- а) Австрия
- б) Швейцария
- в) Норвегия
- г) Франция

4. Основное правило кулачного боя на Руси в древности...

- а) «лежащего не бьют»
- б) «до первой крови»
- в) «до первой слезы»
- г) «не нанеси увечья»

5. После обряда жертвоприношения Зевсу, в Олимпии зажигался олимпийский огонь, который...

- а) горел все дни, пока продолжались состязания и пять дней после их окончания
- б) зажигался в день открытия и закрытия Олимпийских игр
- в) горел все дни, пока продолжались состязания
- г) горел в день открытия Олимпийских игр

6. В каком году был разработан проект комплекса ГТО, который после общественного обсуждения был утвержден и стал нормативной основой системы физического воспитания для всей страны?

- а) в 1925 году
- б) в 1932 году
- в) в 1931 году
- г) в 1934 году

7. Физиологический изгиб в грудном и крестцовом отделе...

- а) лордоз
- б) остеохондроз
- в) сколиоз
- г) кифоз

8. Кто был избран на должность председателя Российского олимпийского комитета в 1911 году?

- а) В.И. Срезневский
- б) П.Ф. Лесгафт
- в) А.Д. Бутовский
- г) А.Ю. Антопченко

9. Игра в городки заключается в выбивании фигур, построенных из пяти городков, с ограниченной площадки, называемой...

- а) база
- б) город
- в) пригород
- г) коп

10. Для обозначения координат на шахматной доске используются буквы и цифры. Буквами обозначают...

- а) диагонали
- б) горизонтали
- в) первую вертикаль
- г) вертикали

Государство

РК-202

**Муниципальный этап всероссийской олимпиады школьников
по физической культуре 2023 - 2024 учебный год
Теоретическая часть: 7 – 8 класс**

Инструкция по выполнению заданий

Вам предлагаются задания, основанные на содержании основной образовательной программы основного общего образования.

Задания объединены в 4 группы:

1 группа (1 – 17 вопросы) - Задания в закрытой форме, с предложенными вариантами ответов. Задания представлены в форме незавершенных утверждений, которые, при завершении, могут оказаться либо истинными, либо ложными. Правильным является то, которое наиболее полно соответствует смыслу утверждения. При выполнении этих заданий, необходимо выбрать только один правильный ответ!

2 группа (18-20 вопросы) - Задания в закрытой форме, с несколькими предложенными вариантами ответов. Это условие указано в задании «Отметьте все позиции!». При выполнении этих заданий, необходимо выбрать несколько правильных ответов.

Выбранные варианты ответов группы 1 и 2 отмечаются зачеркиванием соответствующего квадрата в бланке ответов.

3 группа (21 - 27 вопрос) - Задания в открытой форме, то есть, без предложенных вариантов ответов. При выполнении этого задания, необходимо самостоятельно подобрать вариант ответа, который, завершая высказывание, образует истинное утверждение. Подобранный ответ вписывайте в соответствующую графу бланка ответов. Записи должны быть разборчивыми. Жюри оценивает каждую представленную Вами позицию.

4 группа (28 вопрос) - Задание в котором необходимо установить соответствие между предложенными вариантами.

Внимательно читайте задания и предлагаемые варианты ответов. Старайтесь не угадывать, а логически обосновывать сделанный Вами выбор. Пропускайте незнакомые задания. Это позволит сэкономить время для выполнения других заданий. Впоследствии, Вы сможете вернуться к пропущенному заданию.

Все ответы на предложенные задания вписываются в бланк ответов! Будьте внимательны, делая записи в бланке ответов. Исправления и подчистки оцениваются как неправильный ответ.

Время выполнения заданий – 45 минут!

Желаем удачи!

Муниципальный этап всероссийской олимпиады школьников
по физической культуре 2023 – 2024 учебный год
Теоретико - методическое задание 7 – 8 класс

БЛАНК ОТВЕТОВ

Шифр PK-232

№ вопроса		Варианты ответов								
1	+	<input checked="" type="radio"/> А		Б		В		Г		
2	+	А		Б		<input checked="" type="radio"/> В		Г		
3	+	А		Б		В		<input checked="" type="radio"/> Д		
4	+	<input checked="" type="radio"/> А		Б		В		Г		
5	+	А		Б		<input checked="" type="radio"/> В		Г		
6	+	А		Б		<input checked="" type="radio"/> В		Г		
7	+	А		Б		В		<input checked="" type="radio"/> Д		
8	+	<input checked="" type="radio"/> А		Б		В		Г		
9	+	А		<input checked="" type="radio"/> Б		В		Г		
10	+	А		Б		В		<input checked="" type="radio"/> Д		
11	+	А		<input checked="" type="radio"/> Б		В		Г		
12	+	А		Б		<input checked="" type="radio"/> В		Г		
13	+	А		Б		<input checked="" type="radio"/> В		Г		
14	+	А		Б		<input checked="" type="radio"/> В		Г		
15	+	А		Б		В		<input checked="" type="radio"/> Д		
16	+	<input checked="" type="radio"/> А		Б		В		Г		
17	+	А		Б		<input checked="" type="radio"/> В		Г		
18	+	А		Б		В		<input checked="" type="radio"/> Г		
19	+	А		<input checked="" type="radio"/> Б		В		<input checked="" type="radio"/> Г	<input checked="" type="radio"/> Д	Е
20	+	<input checked="" type="radio"/> А	Б	<input checked="" type="radio"/> В	<input checked="" type="radio"/> Г	Д	<input checked="" type="radio"/> Е	Ж	<input checked="" type="radio"/> З	

25,3

1-3	+ 1
2-2	- 2
1-3	- 3
4-4	- 4
5-5	- 5

28.

opp. Kompartite	+ 1
ver. Kompartite	+ 2
partien	+ 3
gruppen	+ 4

27.

- 26.1-+ rechte
- 2-+ angeschlossen
- 4-+ rechte
- 5-+ oben
- 6-+ am
- 25+ unten
- 24+ 2
- 23+ linke
- 22. + 2018
- 21. - 24 rechte

PK-232

Ж. Курманов

Муниципальный этап всероссийской олимпиады школьников
по физической культуре 2023 - 2024 учебный год
Теоретическая часть: 7 – 8 класс

Инструкция по выполнению заданий

Вам предлагаются задания, основанные на содержании основной образовательной программы основного общего образования.

Задания объединены в 4 группы:

1 группа (1 – 17 вопросы) - Задания в закрытой форме, с предложенными вариантами ответов. Задания представлены в форме незавершенных утверждений, которые, при завершении, могут оказаться либо истинными, либо ложными. Правильным является то, которое наиболее полно соответствует смыслу утверждения. При выполнении этих заданий, необходимо выбрать только один правильный ответ!

2 группа (18-20 вопросы) - Задания в закрытой форме, с несколькими предложенными вариантами ответов. Это условие указано в задании «Отметьте все позиции!». При выполнении этих заданий, необходимо выбрать несколько правильных ответов.

Выбранные варианты ответов группы 1 и 2 отмечаются зачеркиванием соответствующего квадрата в бланке ответов.

3 группа (21 - 27 вопрос) - Задания в открытой форме, то есть, без предложенных вариантов ответов. При выполнении этого задания, необходимо самостоятельно подобрать вариант ответа, который, завершая высказывание, образует истинное утверждение. Подобранный ответ вписывайте в соответствующую графу бланка ответов. Записи должны быть разборчивыми. Жюри оценивает каждую представленную Вами позицию.

4 группа (28 вопрос) - Задание в котором необходимо установить соответствие между предложенными вариантами.

Внимательно читайте задания и предлагаемые варианты ответов. Старайтесь не угадывать, а логически обосновывать сделанный Вами выбор. Пропускайте незнакомые задания. Это позволит сэкономить время для выполнения других заданий. Впоследствии, Вы сможете вернуться к пропущенному заданию.

Все ответы на предложенные задания вписываются в бланк ответов! Будьте внимательны, делая записи в бланке ответов. Исправления и подчистки оцениваются как неправильный ответ.

Время выполнения заданий – 45 минут!

Желаем удачи!

1. Расстояние, пройденное лыжником с момента постановки маховой ноги на снег до начала отталкивания.

- а) длина скользящего шага
- б) траектория скользящего шага
- в) амплитуда скользящего шага
- г) проекция скользящего шага

2. Жёлтая карточка в футболе означает...

- а) замечание
- б) удаление
- в) предупреждение
- г) выговор

3. В какой стране проводились I Олимпийские зимние игры?

- а) Австрия
- б) Швейцария
- в) Норвегия
- г) Франция

4. Основное правило кулачного боя на Руси в древности...

- а) «лежачего не бьют»
- б) «до первой крови»
- в) «до первой слезы»
- г) «не нанеси увечья»

5. После обряда жертвоприношения Зевсу, в Олимпии зажигался олимпийский огонь, который...

- а) горел все дни, пока продолжались состязания и пять дней после их окончания
- б) зажигался в день открытия и закрытия Олимпийских игр
- в) горел все дни, пока продолжались состязания
- г) горел в день открытия Олимпийских игр

6. В каком году был разработан проект комплекса ГТО, который после общественного обсуждения был утвержден и стал нормативной основой системы физического воспитания для всей страны?

- а) в 1925 году
- б) в 1932 году
- в) в 1931 году
- г) в 1934 году

7. Физиологический изгиб в грудном и крестцовом отделе...

- а) лордоз
- б) остеохондроз
- в) сколиоз
- г) кифоз

8. Кто был избран на должность председателя Российского олимпийского комитета в 1911 году?

- а) В.И. Срезневский
- б) П.Ф. Лесгафт
- в) А.Д. Бутовский
- г) А.Ю. Антонченко

9. Игра в городки заключается в выбивании фигур, построенных из пяти городков, с ограниченной площадки, называемой...

- а) база
- б) город
- в) пригород
- г) кон

10. Для обозначения координат на шахматной доске используются буквы и цифры. Буквами обозначают...

- а) диагонали
- б) горизонтали
- в) первую вертикаль
- г) вертикали

ФК-232

11. Кто из отечественных гимнастов занимает второе место в истории Олимпийских игр по количеству завоеванных олимпийских медалей (18) во всех видах спорта, из которых 9 были золотыми?

- а) Людмила Турищева
б) Лариса Латынина
в) Николай Андрианов
г) Алексей Немов

12. Какой национальности был инициатор возрождения Олимпийских игр и олимпийского движения Пьер де Кубертен?

- а) итальянец
б) грек
в) француз
г) немец

13. Спортсмены с нарушением слуха, зрения и опорно-двигательного аппарата участвуют в международных спортивных соревнованиях которые называются...

- а) Игры Паралимпийцев
б) Игры Паралимпиады
в) Паралимпийские игры
г) Адаптивные игры

14. При передвижении на лыжах по дистанции необходимо строго соблюдать интервалы между занимающимися. Они должны составлять...

- а) по равнине 1-2 м, при спусках не менее 10 м
б) по равнине 2-3 м, при спусках не менее 20 м
в) по равнине 3-4 м, при спусках не менее 30 м
г) по равнине 4-5 м, при спусках не менее 40 м

15. Сколько точек для вбрасывания шайбы на площадке для игры в хоккей?

- а) 4 точки
б) 5 точек
в) 8 точек
г) 9 точек

16. Продолжительность игры в гандбол составляет ...

- а) Два тайма по 30 мин.
б) Два тайма по 45 мин.
в) Четыре четверти по 15 мин.
г) Три периода по 20 мин.

17. Какие цвета используются в боксе для обозначения углов ринга?

- а) красный, синий
б) синий, белый
в) красный, синий, белый
г) синий, зелёный, белый

18. Какой вариант перемещения используется для подъёма в гору на лыжах?

Отметьте все позиции!

- а) «ёлочкой»
б) «упором»
в) «шлугом»
г) «лесенкой»

19. Что из перечисленного относится к слагаемым здорового образа жизни человека? Отметьте все позиции!

- а) внешняя среда
б) режим дня
в) прохождение диспансеризации
г) гигиенические факторы
д) рациональное питание
е) отпуск

20. Лёгкая атлетика представлена большим количеством соревновательных упражнений, которые объединены в...

Отметьте все позиции!

- | | |
|-------------------|-----------------|
| а) метания | д) запрыгивания |
| б) перепрыгивания | е) прыжки |
| в) ходьбу | ж) догонялки |
| г) многоборья | з) бег |

21. Сколько лет отделяет XXII Олимпийские зимние игры от Игр XXII Олимпиады?

22. В каком году, в России, проводился Чемпионат мира по футболу?

23. На 138-й сессии Международного олимпийского комитета было единогласно принято решение впервые в истории изменить олимпийский девиз. К фразе «Быстрее, выше, сильнее» было добавлено слово «___?___».

24. Сколько огневых рубежей преодолевает спортсмен во время эстафеты в биатлонной гонке?

25. Один временной отрезок игры в футболе, равный 45 минутам, называется...

26. Вставьте пропущенные слова в Государственный гимн России.

Широкий простор для мечты и для ___ 1 ___

Грядущие нам ___ 2 ___ года.

Нам ___ 3 ___ даст ___ 4 ___ верность Отчизне.

Так ___ 5 ___, так ___ 6 ___ и так будет всегда!

27. Определите вид спорта по представленным картинкам.



28. Установите соответствие между прославленными спортсменами Челябинской области и видом спорта, в котором они выступали.

Спортсмен		Вид спорта	
1	Шумаков Алексей	1	Скелетон
2	Медведева Ольга	2	Лыжные гонки
3	Сидько Алена	3	Греко-римская борьба
4	Третьяков Александр	4	Лёгкая атлетика
5	Мастеркова Светлана	5	Биатлон

Швабская
ФК 255

Муниципальный этап всероссийской олимпиады школьников
по физической культуре 2023 – 2024 учебный год
Теоретико - методическое задание 7 – 8 класс

БЛАНК ОТВЕТОВ

Шифр _____

№ вопроса		Варианты ответов								
1	+	A ✓		Б		В		Г		
2	+	A		Б		В ✓		Г		
3	+	A		Б		В		Г ✓		
4	+	A ✓		Б		В		Г		
5	+	A		Б		В ✓		Г		
6	+	A		Б		В ✓		Г		
7	+	A		Б		В		Г ✓		
8	+	A ✓		Б		В		Г		
9	+	A		Б ✓		В		Г		
10	+	A		Б		В		Г ✓		
11	+	A		Б ✓		В		Г		
12	+	A		Б		В ✓		Г		
13	+	A		Б		В ✓		Г		
14	+	A		Б		В ✓		Г		
15	+	A		Б		В		Г ✓		
16	+	A ✓		Б		В		Г		
17	+	A		Б		В ✓		Г		
18	+	A ✓		Б		В		Г ✓		
19	+	A		Б ✓		В		Г ✓	Д ✓	Е
20	-	A ✓	Б	В ✓	Г	Д	Е ✓	Ж	З ✓	

35,5 = 25,6

+	+	+	+	+
3	1	2	5	4
1	4	3	2	5

28.

opunguue kaimaruue	neuar amarmuue	korreel	opymdon
+	+	+	+
1	2	3	4
+	+	+	+

27.

- 5-6-2018
- 3-2018
- 26-1-2018
- 2-2018
- 25. 2018
- 24. 2
- 23. 2018
- 22. 2018
- 21. 2018

**Муниципальный этап всероссийской олимпиады школьников
по физической культуре 2023 - 2024 учебный год
Теоретическая часть: 7 – 8 класс**

Инструкция по выполнению заданий

Вам предлагаются задания, основанные на содержании основной образовательной программы основного общего образования.

Задания объединены в 4 группы:

1 группа (1 – 17 вопросы) - Задания в закрытой форме, с предложенными вариантами ответов. Задания представлены в форме незавершенных утверждений, которые, при завершении, могут оказаться либо истинными, либо ложными. Правильным является то, которое наиболее полно соответствует смыслу утверждения. При выполнении этих заданий, необходимо выбрать только один правильный ответ!

2 группа (18-20 вопросы) - Задания в закрытой форме, с несколькими предложенными вариантами ответов. Это условие указано в задании «Отметьте все позиции!». При выполнении этих заданий, необходимо выбрать несколько правильных ответов.

Выбранные варианты ответов группы 1 и 2 отмечаются зачеркиванием соответствующего квадрата в бланке ответов.

3 группа (21 - 27 вопрос) - Задания в открытой форме, то есть, без предложенных вариантов ответов. При выполнении этого задания, необходимо самостоятельно подобрать вариант ответа, который, завершая высказывание, образует истинное утверждение. Подобранный ответ вписывайте в соответствующую графу бланка ответов. Записи должны быть разборчивыми. Жюри оценивает каждую представленную Вами позицию.

4 группа (28 вопрос) - Задание в котором необходимо установить соответствие между предложенными вариантами.

Внимательно читайте задания и предлагаемые варианты ответов. Старайтесь не угадывать, а логически обосновывать сделанный Вами выбор. Пропускайте незнакомые задания. Это позволит сэкономить время для выполнения других заданий. Впоследствии, Вы сможете вернуться к пропущенному заданию.

Все ответы на предложенные задания вписываются в бланк ответов! Будьте внимательны, делая записи в бланке ответов. Исправления и подчистки оцениваются как неправильный ответ.

Время выполнения заданий – 45 минут!

Желаем удачи!

1. Расстояние, пройденное лыжником с момента постановки маховой ноги на снег до начала отталкивания.

- а) длина скользящего шага
б) траектория скользящего шага
в) амплитуда скользящего шага
г) проекция скользящего шага

2. Жёлтая карточка в футболе означает...

- а) замечание
б) удаление
в) предупреждение
г) выговор

3. В какой стране проводились I Олимпийские зимние игры?

- а) Австрия
б) Швейцария
в) Норвегия
г) Франция

4. Основное правило кулачного боя на Руси в древности...

- а) «лежачего не бьют»
б) «до первой крови»
в) «до первой слезы»
г) «не нанеси увечья»

5. После обряда жертвоприношения Зевсу, в Олимпии зажигался олимпийский огонь, который...

- а) горел все дни, пока продолжались состязания и пять дней после их окончания
б) зажигался в день открытия и закрытия Олимпийских игр
в) горел все дни, пока продолжались состязания
г) горел в день открытия Олимпийских игр

6. В каком году был разработан проект комплекса ГТО, который после общественного обсуждения был утвержден и стал нормативной основой системы физического воспитания для всей страны?

- а) в 1925 году
б) в 1932 году
в) в 1931 году
г) в 1934 году

7. Физиологический изгиб в грудном и крестцовом отделе...

- а) лордоз
б) остеохондроз
в) сколиоз
г) кифоз

8. Кто был избран на должность председателя Российского олимпийского комитета в 1911 году?

- а) В.И. Срезневский
б) П.Ф. Лесгафт
в) А.Д. Бугровский
г) А.Ю. Антонченко

9. Игра в городки заключается в выбивании фигур, построенных из пяти городков, с ограниченной площадки, называемой...

- а) база
б) город
в) пригород
г) кон

10. Для обозначения координат на шахматной доске используются буквы и цифры. Буквами обозначают...

- а) диагонали
б) горизонтали
в) первую вертикаль
г) вертикали

20. Лёгкая атлетика представлена большим количеством соревновательных упражнений, которые объединены в...

Отметьте все позиции!

- а) метания
- б) перепрыгивания
- в) ходьбу
- г) многоборья
- д) запрыгивания
- е) прыжки
- ж) догонялки
- з) бег

21. Сколько лет отделяет XXII Олимпийские зимние игры от Игр XXII Олимпиады? 33-34 года

22. В каком году, в России, проводился Чемпионат мира по футболу? 2018 год

23. На 138-й сессии Международного олимпийского комитета было единогласно принято решение впервые в истории изменить олимпийский девиз. К фразе «Быстрее, выше, сильнее» было добавлено слово «?». Вместе


24. Сколько огневых рубежей преодолевает спортсмен во время эстафеты в биатлонной гонке? два огневых рубежа

25. Один временной отрезок игры в футболе, равный 45 минутам, называется... тайм

26. Вставьте пропущенные слова в Государственный гимн России.

Широкий простор для мечты и для 1 жизни
 Грядущие нам 2 года. Открывают
 Нам 3 даёт 4 верность Отчизне. силу, наша
 Так 5, так 6 и так будет всегда! было, есть

27. Определите вид спорта по представленным картинкам.



фигурное катание лёгкая атлетика хоккей футбол

28. Установите соответствие между прославленными спортсменами Челябинской области и видом спорта, в котором они выступали.

Спортсмен		Вид спорта	
1	Шумаков Алексей	1	Скелетон
2	Медведева Ольга	2	Лыжные гонки
3	Сидько Алена	3	Греко-римская борьба
4	Третьяков Александр	4	Лёгкая атлетика
5	Мастеркова Светлана	5	Биатлон

11. Кто из отечественных гимнастов занимает второе место в истории Олимпийских игр по количеству завоёванных олимпийских медалей (18) во всех видах спорта, из которых 9 были золотыми?

- а) Людмила Турищева
б) Лариса Латынина
в) Николай Андрианов
г) Алексей Немов

12. Какой национальности был инициатор возрождения Олимпийских игр и олимпийского движения Пьер де Кубертен?

- а) итальянец
б) грек
в) француз
г) немец

13. Спортсмены с нарушением слуха, зрения и опорно-двигательного аппарата участвуют в международных спортивных соревнованиях которые называются...

- а) Игры Паралимпийцев
б) Игры Паралимпиады
в) Паралимпийские игры
г) Адаптивные игры

14. При передвижении на лыжах по дистанции необходимо строго соблюдать интервалы между занимающимися. Они должны составлять...

- а) по равнине 1-2 м, при спусках не менее 10 м
б) по равнине 2-3 м, при спусках не менее 20 м
в) по равнине 3-4 м, при спусках не менее 30 м
г) по равнине 4-5 м, при спусках не менее 40 м

15. Сколько точек для вбрасывания шайбы на площадке для игры в хоккей?

- а) 4 точки
б) 5 точек
в) 8 точек
г) 9 точек

16. Продолжительность игры в гандбол составляет ...

- а) Два тайма по 30 мин.
б) Два тайма по 45 мин
в) Четыре четверти по 15 мин.
г) Три периода по 20 мин.

17. Какие цвета используются в боксе для обозначения углов ринга?

- а) красный, синий
б) синий, белый
в) красный, синий, белый
г) синий, зелёный, белый

18. Какой вариант перемещения используется для подъёма в гору на лыжах?

Отметьте все позиции!

- а) «ёлочкой»
б) «упором»
в) «плугом»
г) «лесенкой»

19. Что из перечисленного относится к слагаемым здорового образа жизни человека? Отметьте все позиции!

- а) внешняя среда
б) режим дня
в) прохождение диспансеризации
г) гигиенические факторы
д) рациональное питание
е) отпуск

Зарянов

ФК 256

Муниципальный этап всероссийской олимпиады школьников
по физической культуре 2023 – 2024 учебный год
Теоретико - методическое задание 7 – 8 класс

БЛАНК ОТВЕТОВ

Шифр _____

№ вопроса		Варианты ответов							
1	+	<input checked="" type="radio"/> А		Б		В		Г	
2	+	А		Б		<input checked="" type="radio"/> В		Г	
3	+	А		Б		В		<input checked="" type="radio"/> Г	
4	+	<input checked="" type="radio"/> А		Б		В		Г	
5	+	А		Б		<input checked="" type="radio"/> В		Г	
6	+	А		Б		<input checked="" type="radio"/> В		Г	
7	+	А		Б		В		<input checked="" type="radio"/> Г	
8	+	<input checked="" type="radio"/> А		Б		В		Г	
9	+	А		<input checked="" type="radio"/> Б		В		Г	
10	+	А		Б		В		<input checked="" type="radio"/> Г	
11	+	А		<input checked="" type="radio"/> Б		В		Г	
12	+	А		Б		<input checked="" type="radio"/> В		Г	
13	+	А		Б		<input checked="" type="radio"/> В		Г	
14	-	А		<input checked="" type="radio"/> Б		В		Г	
15	+	А		Б		В		<input checked="" type="radio"/> Г	
16	+	<input checked="" type="radio"/> А		Б		В		Г	
17	+	А		Б		<input checked="" type="radio"/> В		Г	
18	-	А		<input checked="" type="radio"/> Б		В		Г	
19	+	А		<input checked="" type="radio"/> Б		В	<input checked="" type="radio"/> Г	<input checked="" type="radio"/> Д	<input checked="" type="radio"/> Е
20	+	<input checked="" type="radio"/> А	Б	<input checked="" type="radio"/> В	<input checked="" type="radio"/> Г	Д	<input checked="" type="radio"/> Е	Ж	<input checked="" type="radio"/> З

$$32,5 = 23,58$$

3	5	2	1	4
1	2	3	4	5

28.

Воп. Катание	В.А.	Хоккей	Футбол
1	2	3	4

27.

- 26. 1- 2-
- 3- 4-
- 5- 6-
- 21. 34 +
- 22. 2018 +
- 23. БМЕТЕ +
- 24. 2 +
- 25. ТАИМ +

1 к.с.

Муниципальный этап всероссийской олимпиады школьников
по физической культуре 2023 - 2024 учебный год
Теоретическая часть: 7 – 8 класс

Инструкция по выполнению заданий

Вам предлагаются задания, основанные на содержании основной образовательной программы основного общего образования.

Задания объединены в 4 группы:

1 группа (1 – 17 вопросы) - Задания в закрытой форме, с предложенными вариантами ответов. Задания представлены в форме незавершенных утверждений, которые, при завершении, могут оказаться либо истинными, либо ложными. Правильным является то, которое наиболее полно соответствует смыслу утверждения. При выполнении этих заданий, необходимо выбрать только один правильный ответ!

2 группа (18-20 вопросы) - Задания в закрытой форме, с несколькими предложенными вариантами ответов. Это условие указано в задании «Отметьте все позиции!». При выполнении этих заданий, необходимо выбрать несколько правильных ответов.

Выбранные варианты ответов группы 1 и 2 отмечаются зачеркиванием соответствующего квадрата в бланке ответов.

3 группа (21 - 27 вопрос) - Задания в открытой форме, то есть, без предложенных вариантов ответов. При выполнении этого задания, необходимо самостоятельно подобрать вариант ответа, который, завершая высказывание, образует истинное утверждение. Подобранный ответ вписывайте в соответствующую графу бланка ответов. Записи должны быть разборчивыми. Жюри оценивает каждую представленную Вами позицию.

4 группа (28 вопрос) - Задание в котором необходимо установить соответствие между предложенными вариантами.

Внимательно читайте задания и предлагаемые варианты ответов. Старайтесь не угадывать, а логически обосновывать сделанный Вами выбор. Пропускайте незнакомые задания. Это позволит сэкономить время для выполнения других заданий. Впоследствии, Вы сможете вернуться к пропущенному заданию.

Все ответы на предложенные задания вписываются в бланк ответов! Будьте внимательны, делая записи в бланке ответов. Исправления и подчистки оцениваются как неправильный ответ.

Время выполнения заданий – 45 минут!

Желаем удачи!

1. Расстояние, пройденное лыжником с момента постановки маховой ноги на снег до начала отталкивания.

- а) длина скользящего шага
б) траектория скользящего шага
в) амплитуда скользящего шага
г) проекция скользящего шага

2. Жёлтая карточка в футболе означает...

- а) замечание
б) удаление
в) предупреждение
г) выговор

3. В какой стране проводились I Олимпийские зимние игры?

- а) Австрия
б) Швейцария
в) Норвегия
г) Франция

4. Основное правило кулачного боя на Руси в древности...

- а) «лежачего не бьют»
б) «до первой крови»
в) «до первой слезы»
г) «не нанеси увечья»

5. После обряда жертвоприношения Зевсу, в Олимпии зажигался олимпийский огонь, который...

- а) горел все дни, пока продолжались состязания и пять дней после их окончания
б) зажигался в день открытия и закрытия Олимпийских игр
 в) горел все дни, пока продолжались состязания
г) горел в день открытия Олимпийских игр

6. В каком году был разработан проект комплекса ГТО, который после общественного обсуждения был утвержден и стал нормативной основой системы физического воспитания для всей страны?

- а) в 1925 году
б) в 1932 году
в) в 1931 году
г) в 1934 году

7. Физиологический изгиб в грудном и крестцовом отделе...

- а) лордоз
б) остеохондроз
в) сколиоз
г) кифоз

8. Кто был избран на должность председателя Российского олимпийского комитета в 1911 году?

- а) В.И. Срезневский
б) П.Ф. Лесгафт
в) А.Д. Бугровский
г) А.Ю. Антощенко

9. Игра в городки заключается в выбивании фигур, построенных из пяти городков, с ограниченной площадки, называемой...

- а) база
б) город
в) пригород
г) кон

10. Для обозначения координат на шахматной доске используются буквы и цифры. Буквами обозначают...

- а) диагонали
б) горизонтали
в) первую вертикаль
г) вертикали

11. Кто из отечественных гимнастов занимает второе место в истории Олимпийских игр по количеству завоёванных олимпийских медалей (18) во всех видах спорта, из которых 9 были золотыми?

- а) Людмила Турищева
 б) Лариса Латынина
 в) Николай Андрианов
 г) Алексей Немов

12. Какой национальности был инициатор возрождения Олимпийских игр и олимпийского движения Пьер де Кубертен?

- а) итальянец
 б) грек
 в) француз
 г) немец

13. Спортсмены с нарушением слуха, зрения и опорно-двигательного аппарата участвуют в международных спортивных соревнованиях которые называются...

- а) Игры Паралимпийцев
 б) Игры Паралимпиады
 в) Паралимпийские игры
 г) Адаптивные игры

14. При передвижении на лыжах по дистанции необходимо строго соблюдать интервалы между занимающимися. Они должны составлять...

- а) по равнине 1-2 м, при спусках не менее 10 м
 б) по равнине 2-3 м, при спусках не менее 20 м
 в) по равнине 3-4 м, при спусках не менее 30 м
 г) по равнине 4-5 м, при спусках не менее 40 м

15. Сколько точек для вбрасывания шайбы на площадке для игры в хоккей?

- а) 4 точки
 б) 5 точек
 в) 8 точек
 г) 9 точек

16. Продолжительность игры в гандбол составляет ...

- а) Два тайма по 30 мин.
 б) Два тайма по 45 мин.
 в) Четыре четверти по 15 мин.
 г) Три периода по 20 мин.

17. Какие цвета используются в боксе для обозначения углов ринга?

- а) красный, синий
 б) синий, белый
 в) красный, синий, белый
 г) синий, зелёный, белый

18. Какой вариант перемещения используется для подъёма в гору на лыжах?

Отметьте все позиции!

- а) «ёлочкой»
 б) «упором»
 в) «шлугом»
 г) «лесенкой»

19. Что из перечисленного относится к слагаемым здорового образа жизни человека?

Отметьте все позиции!

- а) внешняя среда
 б) режим дня
 в) прохождение диспансеризации
 г) гигиенические факторы
 д) рациональное питание
 е) отпуск

20. Лёгкая атлетика представлена большим количеством соревновательных упражнений, которые объединены в...

Отметьте все позиции!

- | | |
|---|---|
| <input checked="" type="checkbox"/> а) метания | <input type="checkbox"/> д) запрыгивания |
| <input type="checkbox"/> б) перепрыгивания | <input checked="" type="checkbox"/> е) прыжки |
| <input checked="" type="checkbox"/> в) ходьбу | <input type="checkbox"/> ж) догонялки |
| <input checked="" type="checkbox"/> г) многоборья | <input checked="" type="checkbox"/> з) бег |

21. Сколько лет отделяет XXII Олимпийские зимние игры от Игр XXII Олимпиады?

22. В каком году, в России, проводился Чемпионат мира по футболу?

23. На 138-й сессии Международного олимпийского комитета было единогласно принято решение впервые в истории изменить олимпийский девиз. К фразе «Быстрее, выше, сильнее» было добавлено слово «___?___».

24. Сколько огневых рубежей преодолевает спортсмен во время эстафеты в биатлонной гонке?

25. Один временной отрезок игры в футболе, равный 45 минутам, называется...

26. Вставьте пропущенные слова в Государственный гимн России.

Широкий простор для мечты и для 1

Грядущие нам 2 года.

Пам 3 даст 4 верность Отчизне.

Так 5, так 6 и так будет всегда!

27. Определите вид спорта по представленным картинкам.



28. Установите соответствие между прославленными спортсменами Челябинской области и видом спорта, в котором они выступали.

Спортсмен		Вид спорта	
1	Шумаков Алексей	1	Скелетон
2	Медведева Ольга	2	Лыжные гонки
3	Сидько Алена	3	Греко-римская борьба
4	Третьяков Александр	4	Лёгкая атлетика
5	Мастеркова Светлана	5	Биатлон

1	2	3	4	5
Г	Б	В	А	В
6	7	8	9	10
Г	Б	А -	Г	В
11	12	13	14	15
А -	А	Б	А	Г
16	17	18	19	20
Б -	В	В	А	Г
21	22	23	24	25
Б	Г	В	Б	АГ
26	27	28	29	30
АБ	А	А	В	Б
31	32	33	34	35
А	А	ЛЫЖБИ	=	ФУГУРНОЕ КАМАНИ
36	37	38	39	40
-	МЯУ	-	-	-

Зачекавајте

ЗД

ФК 249

В данных заданиях завершите предложение, вписав правильное продолжение в бланк ответа

33. Потергиости и обморожения характерны при занятиях _____
(видом спорта)
34. Внешние признаки утомления – это _____.
35. Назовите вид спорта первого олимпийского чемпиона, представителя нашей страны, Николая Панина-Коломенкина _____.
36. Победителей Олимпийских игр в Древней Греции называли _____.
37. Назовите спортивный инвентарь круглой формы, наиболее распространённый в игровых видах спорта: _____.
38. Способность выполнять физическое упражнение с большой амплитудой называется _____.
39. Оговоренное заранее положение рук, ног, туловища перед началом выполнения упражнения называется _____.

В данном задании соотнесите цифре в правом столбце букву в левом столбце и впишите в бланк ответа (например, 1Б и т.д.)

40. Какое количество игроков находится на площадке во время игры в указанном виде спорта?

1 Баскетбол	А) 7
2 Волейбол	Б) 11
3 Футбол	В) 6
4 Ручной мяч (гандбол)	Г) 5

24. К какому виду спорта относятся и бег, и прыжки, и метания?

- а) спортивная гимнастика;
- б) лёгкая атлетика;
- в) акробатика;
- г) триатлон.

25. Какое из перечисленных качеств относится к физическим?

- а) целеустремленность;
- б) трудолюбие;
- в) смелость;
- г) выносливость.

26. На каких снарядах не соревнуются мужчины в спортивной гимнастике?

- а) брусья;
- б) бревно;
- в) конь;
- г) кольца.

27. Что из перечисленного НЕ относится к водным видам спорта?

- а) бобслей;
- б) гребля;
- в) парусный спорт;
- г) водное поло.

28. Какая прыжковая спортивная дисциплина относится к лёгкой атлетике?

- а) прыжок с шестом;
- б) опорный прыжок;
- в) прыжок с парашютом;
- г) прыжок в воду.

29. После какой команды принимается основная стойка?

- а) На старт!
- б) Равняйся!
- в) Смирно!
- г) Вольно!

30. Что является основными средствами закаливания?

- а) физические упражнения;
- б) солнце, воздух, вода;
- в) выступление в соревнованиях;
- г) физический труд.

31. К какому методу относится подача команд при выполнении физических упражнений?

- а) словесного воздействия;
- б) игровой;
- в) наглядного воздействия;
- г) повторный.

32. При каком условии подтягивание считается правильным?

- а) подбородок выше уровня перекладины;
- б) угол в локтевых суставах достигает 90° ;
- в) глаза находятся на уровне перекладины;
- г) при сгибании рук производятся дополнительные движения ногами.

ФК 249
15. «Королевой спорта» называют вид спорта:

- А) плавание
- Б) лыжный спорт
- В) художественную гимнастику
- Г) легкую атлетику

16. Приемом игры в баскетбол является:

- А) остановка прыжком
- Б) нижняя прямая подача
- В) бросок в ворота соперника
- Г) остановка катящегося мяча подошвой

17. Каким упражнением проверить физическое качество – гибкость:

- а) подтягивание в висе на перекладине,
- б) прыжки в длину с места,
- в) наклон вперед из положения сидя ноги врозь,
- г) кувырок вперед.

18. Где зародились Олимпийские игры?

- А) Древняя Русь;
- Б) Римская Империя;
- В) Древняя Греция;
- Г) Византия.

19. Как звучит девиз Олимпийского движения?

- А) Быстрее! Выше! Сильнее!
- Б) Победа! Слава! Богатство!
- В) Мир! Дружба! Братство!
- Г) Победы! Рекорды! Достижения!

20. Когда летние и зимние Олимпийские игры проводились в нашей стране?

- А) 1952 г. и 2010 г.
- Б) 1972 г. и 2006 г.
- В) 1988 г. и 2002 г.
- Г) 1980 г. и 2014 г.

21. Какое международное спортивное мероприятие состоялось в 2018 году в России?

- А) Чемпионат Мира по хоккею;
- Б) Чемпионат Мира по футболу;
- В) Чемпионат Мира по легкой атлетике;
- Г) Чемпионат Мира по водным видам спорта.

22. Какие упражнения используют для воспитания силы?

- А) бег в медленном темпе;
- Б) прыжки с возвышения;
- В) махи руками;
- Г) подтягивание.

23. Какой из видов спорта относится к игровым?

- А) фехтование;
- Б) борьба;
- В) хоккей;
- Г) биатлон.

6. Способ прыжков в высоту, изучаемый в школе:

- а) «перекидной»;
- б) «волна»;
- в) «флон»;
- г) «перешагивание».

7. Когда прошли первые олимпийские игры в древней Греции?

- А) 778 г. до н.э
- Б) 776 г. до н.э
- В) 876 г. до н.э
- Г) 1896 г. н.э

8. В какой спортивной игре нет вратаря?

- а) футбол,
- б) хоккей,
- в) баскетбол,
- г) водное поло.

9. При растяжении мышц необходимо:

- А) наложить стерильную повязку и пину на место растяжения
- Б) протереть место растяжения перекисью водорода и наложить стерильную повязку
- В) наложить на место растяжения стерильную повязку, выше места растяжения – жгут
- Г) положить на место растяжения холодный компресс и тугую повязку

10. Чем отличается кроссовый бег от длительного бега?

- а) техникой бега,
- б) скоростью бега,
- в) местом проведения занятий,
- г) работой рук.

11. Как часто проходят Олимпийские игры?

- а) каждый год;
- б) один раз в два года;
- в) один раз в три года;
- г) один раз в четыре года.

12. Международная организация, созданная по инициативе барона Пьера де Кубертена для возрождения Олимпийских игр, сокращенно называется:

- А) МОК
- Б) ОКР
- В) ИОК
- Г) БИОК

13. Основным спортом для развития координации движения является:

- А) баскетбол
- Б) гимнастика
- В) легкая атлетика
- В) шахматы

14. Волейбол как спортивная игра появилась в конце XIX века:

- А) в США
- Б) Канаде
- В) Японии
- Г) Германии

Фк 249

ВСЕРОССИЙСКАЯ ОЛИМПИАДА ШКОЛЬНИКОВ
ПО ФИЗИЧЕСКОЙ КУЛЬТУРЕ

Школьный этап

5-6 класс

1. Теоретико-методическое задание

Инструкция по выполнению заданий

Уважаемые участники!

Вашему вниманию представлены задания школьного этапа олимпиады по физической культуре.

Задания с № 1 по № 32 представлены в закрытой форме в виде вопросов с предложенными вариантами ответов, которые могут быть как правильными, так и неправильными. При выполнении этих заданий необходимо выбрать один правильный ответ в каждом задании. Ответ в виде буквы внесите в бланк ответов под соответствующим номером.

Задания № 33-39 представлены в открытой форме. При выполнении этих заданий необходимо дописать слово (слова), которые завершают предложение. Подобранные слова впишите в бланк ответа под соответствующим номером задания.

Задание № 40 представлено в виде таблицы, в которой в левом столбце вписаны одни данные, в правом столбце вписаны другие данные. Вам необходимо соотнести понятия левого столба с понятиями правого столба и вписать ответы в бланк под соответствующим номером задания.

Будьте внимательны при чтении заданий, аккуратно и разборчиво вписывайте ответы в бланк ответов в соответствующий номер. При ошибочном ответе зачеркните неправильный ответ и рядом аккуратно напишите правильный ответ.

Желаем удачи!

1. Слагаемые здорового образа жизни:

- А) рациональное питание, успешная учеба, двигательная активность
- Б) режим дня, двигательная активность, развитие творческих способностей
- В) гигиена, режим дня, подготовка к будущей профессиональной деятельности
- Г) режим дня, гигиена, рациональное питание, двигательная активность

2. Расстояние между двумя спортсменами, стоящими в строю называется;

- А) колонна
- Б) интервал
- В) шеренга
- Г) линия

3. Строевые упражнения – это:

- А) попеременно двухшажный ход;
- Б) низкий старт;
- В) повороты на месте, перестроения;
- Г) верхняя подача.

4. Гибкость – это способность

- А) выполнять движения с большой амплитудой
- Б) преодолевать внешнее сопротивление или противодействовать ему за счет мышечных усилий
- В) совершать двигательные действия в минимальный для данных условий отрезок времени
- Г) к длительному выполнению какой-либо деятельности без снижения ее эффективности

5. Какой частью тела футболист не может останавливать мяч во время игры?

- а) головой,
- б) ногой,
- в) рукой,
- г) туловищем.

6

БЛАНК ОТВЕТОВ

1	2	3	4	5
~	б	в	а	б
6	7	8	9	10
~	б	б -	~	в
11	12	13	14	15
~	б -	б	а	~
16	17	18	19	20
б -	в	б -	а	~
21	22	23	24	25
б	~	а -	а -	~
26	27	28	29	30
б	а	а	в	б
31	32	33	34	35
а	а	итенное лодки	-	фигурное контрасти
36	37	38	39	40
византизм	мф2	губка	-	1 - 2 2 - б 3 - б 4 - А

Зушкин

32

ФК 248

В данных заданиях завершите предложение, вписав правильное продолжение в бланк ответа

33. Потертости и обморожения характерны при занятиях _____
(видом спорта)
34. Внешние признаки утомления – это _____
35. Назовите вид спорта первого олимпийского чемпиона, представителя нашей страны, Николая Панина-Коломенкина _____
36. Победителей Олимпийских игр в Древней Греции называли _____
37. Назовите спортивный инвентарь круглой формы, наиболее распространённый в игровых видах спорта: _____
38. Способность выполнять физическое упражнение с большой амплитудой называется _____
39. Оговоренное заранее положение рук, ног, туловища перед началом выполнения упражнения называется _____

В данном задании соотнесите цифре в правом столбце букву в левом столбце и впишите в бланк ответа (например, 1Б и т.д.)

40. Какое количество игроков находится на площадке во время игры в указанном виде спорта?

1 Баскетбол	А) 7
2 Волейбол	Б) 11
3 Футбол	В) 6
4 Ручной мяч (гандбол)	Г) 5

ВСЕРОССИЙСКАЯ ОЛИМПИАДА ШКОЛЬНИКОВ
ПО ФИЗИЧЕСКОЙ КУЛЬТУРЕ
Школьный этап
5-6 класс

ФК 248

1. Теоретико-методическое задание

Инструкция по выполнению заданий
Уважаемые участники!

Вашему вниманию представлены задания школьного этапа олимпиады по физической культуре.

Задания с № 1 по № 32 представлены в закрытой форме в виде вопросов с предложенными вариантами ответов, которые могут быть как правильными, так и неправильными. При выполнении этих заданий необходимо выбрать один правильный ответ в каждом задании. Ответ в виде буквы внесите в бланк ответов под соответствующим номером.

Задания № 33-39 представлены в открытой форме. При выполнении этих заданий необходимо дописать слово (слова), которые завершают предложение. Подобранные слова впишите с бланк ответа под соответствующим номером задания.

Задание № 40 представлено в виде таблицы, в которой в левом столбце вписаны одни данные, в правом столбце вписаны другие данные. Вам необходимо соотнести понятия левого столба с понятиями правого столба и вписать ответы в бланк под соответствующим номером задания.

Будьте внимательны при чтении заданий, аккуратно и разборчиво вписывайте ответы в бланк ответов в соответствующий номер. При ошибочном ответе зачеркните неправильный ответ и рядом аккуратно напишите правильный ответ.

Желаем удачи!

1. Слагаемые здорового образа жизни:

- А) рациональное питание, успешная учеба, двигательная активность
- Б) режим дня, двигательная активность, развитие творческих способностей
- В) гигиена, режим дня, подготовка к будущей профессиональной деятельности
- Г) режим дня, гигиена, рациональное питание, двигательная активность

2. Расстояние между двумя спортсменами, стоящими в строю называется;

- А) колонна
- Б) интервал
- В) шеренга
- Г) линия

3. Строевые упражнения – это:

- А) попеременно двухшажный ход;
- Б) низкий старт;
- В) повороты на месте, перестроения;
- Г) верхняя подача.

4. Гибкость – это способность

- А) выполнять движения с большой амплитудой
- Б) преодолевать внешнее сопротивление или противодействовать ему за счет мышечных усилий
- В) совершать двигательные действия в минимальный для данных условий отрезок времени
- Г) к длительному выполнению какой-либо деятельности без снижения ее эффективности

5. Какой частью тела футболист не может останавливать мяч во время игры?

- а) головой,
- б) ногой,
- в) рукой.
- г) туловищем.

6. Способ прыжков в высоту, изучаемый в школе:

- а) «перекидной»;
- б) «волна»;
- в) «флон»;
- г) «перешагивание».

7. Когда прошли первые олимпийские игры в древней Греции?

- А) 778 г. до н.э
- Б) 776 г. до н.э
- В) 876 г. до н.э
- Г) 1896 г. н.э

8. В какой спортивной игре нет вратаря?

- а) футбол.
- б) хоккей.
- в) баскетбол.
- г) водное поло.

9. При растяжении мышц необходимо:

- А) наложить стерильную повязку и шину на место растяжения
- Б) протереть место растяжения перекисью водорода и наложить стерильную повязку
- В) наложить на место растяжения стерильную повязку, выше места растяжения – жгут
- Г) положить на место растяжения холодный компресс и тугую повязку

10. Чем отличается кроссовый бег от длительного бега?

- а) техникой бега,
- б) скоростью бега,
- в) местом проведения занятий,
- г) работой рук.

11. Как часто проходят Олимпийские игры?

- а) каждый год;
- б) один раз в два года;
- в) один раз в три года;
- г) один раз в четыре года.

12. Международная организация, созданная по инициативе барона Пьера де Кубертена для возрождения Олимпийских игр, сокращенно называется:

- А) МОК
- Б) ОКР
- В) ИОК
- Г) БНОК

13. Основным спортом для развития координации движения является:

- А) баскетбол
- Б) гимнастика
- В) легкая атлетика
- В) шахматы

14. Волейбол как спортивная игра появилась в конце XIX века:

- А) в США
- Б) Канаде
- В) Японии
- Г) Германии

ФК 298

15. «Королевой спорта» называют вид спорта:

- А) плавание
- Б) лыжный спорт
- В) художественную гимнастику
- Г) легкую атлетику

16. Приемом игры в баскетбол является:

- А) остановка прыжком
- Б) нижняя прямая подача
- В) бросок в ворота соперника
- Г) остановка катящегося мяча подошвой

17. Каким упражнением проверить физическое качество – гибкость:

- а) подтягивание в висе на перекладине,
- б) прыжки в длину с места,
- в) наклон вперед из положения сидя ноги врозь,
- г) кувырок вперед.

18. Где зародились Олимпийские игры?

- А) Древняя Русь;
- Б) Римская Империя;
- В) Древняя Греция;
- Г) Византия.

19. Как звучит девиз Олимпийского движения?

- А) Быстрее! Выше! Сильнее!
- Б) Победа! Слава! Богатство!
- В) Мир! Дружба! Братство!
- Г) Победы! Рекорды! Достижения!

20. Когда летние и зимние Олимпийские игры проводились в нашей стране?

- А) 1952 г. и 2010 г.
- Б) 1972 г. и 2006 г.
- В) 1988 г. и 2002 г.
- Г) 1980 г. и 2014 г.

21. Какое международное спортивное мероприятие состоялось в 2018 году в России?

- А) Чемпионат Мира по хоккею;
- Б) Чемпионат Мира по футболу;
- В) Чемпионат Мира по легкой атлетике;
- Г) Чемпионат Мира по водным видам спорта.

22. Какие упражнения используют для воспитания силы?

- А) бег в медленном темпе;
- Б) прыжки с возвышения;
- В) махи руками;
- Г) подтягивание.

23. Какой из видов спорта относится к игровым?

- А) фехтование;
- Б) борьба;
- В) хоккей;
- Г) биатлон.

24. К какому виду спорта относятся и бег, и прыжки, и метания?
- а) спортивная гимнастика;
 - б) лёгкая атлетика;
 - в) акробатика;
 - г) триатлон.
25. Какое из перечисленных качеств относится к физическим?
- а) целеустремленность;
 - б) трудолюбие;
 - в) смелость;
 - г) выносливость.
26. На каких снарядах не соревнуются мужчины в спортивной гимнастике?
- а) брусья;
 - б) бревно;
 - в) конь;
 - г) кольца.
27. Что из перечисленного НЕ относится к водным видам спорта?
- а) бобслей;
 - б) гребля;
 - в) парусный спорт;
 - г) водное поло.
28. Какая прыжковая спортивная дисциплина относится к лёгкой атлетике?
- а) прыжок с шестом;
 - б) опорный прыжок;
 - в) прыжок с парашютом;
 - г) прыжок в воду.
29. После какой команды принимается основная стойка?
- а) На старт!
 - б) Равняйся!
 - в) Смирно!
 - г) Вольно!
30. Что является основными средствами закаливания?
- а) физические упражнения;
 - б) солнце, воздух, вода;
 - в) выступление в соревнованиях;
 - г) физический труд.
31. К какому методу относится подача команд при выполнении физических упражнений?
- а) словесного воздействия;
 - б) игровой;
 - в) наглядного воздействия;
 - г) повторный.
32. При каком условии подтягивание считается правильным?
- а) подбородок выше уровня перекладины;
 - б) угол в локтевых суставах достигает 90° ;
 - в) глаза находятся на уровне перекладины;
 - г) при сгибании рук производятся дополнительные движения ногами.

11. Для обозначения координат на шахматной доске используются буквы и цифры. Цифрами обозначают...

- а) диагонали
 б) горизонтали
 в) первую вертикаль
 г) вертикали

12. Кто из гимнасток получил прозвище «королева брусьев» за исполнение очень сложных элементов на этом снаряде?

- а) Светлана Хоркина
 б) Ольга Корбут
 в) Людмила Турищева
 г) Лариса Латынина

13. Как называются церемонии, которые проходят на объектах соревнований сразу после объявлений результатов?

- а) цветочные церемонии
 б) торжественные церемонии
 в) медальные церемонии
 г) поздравительные церемонии

14. Отметьте новые дисциплины, включённые в программу XXIV Олимпийских зимних игр в Пекине 2022. Отметьте все позиции!

- а) командные соревнования в горнолыжном спорте
 б) смешанная эстафета в шорт-треке
 в) смешанные командные соревнования по фристайлу в акробатике
 г) мужские одиночные соревнования по скелетону
 д) женские одиночные соревнования по бобслею
 е) масс-старт в конькобежном спорте (мужчины и женщины)

15. Какие из представленных упражнений принято называть скоростно-силовыми?

Отметьте все позиции!

- а) бег на 100 м
 б) метание мяча на дальность
 в) прыжки в длину с места
 г) отжимания в упоре лёжа
 д) лазание по канату
 е) прыжки в высоту

16. Отметьте основные средства для развития общей выносливости.

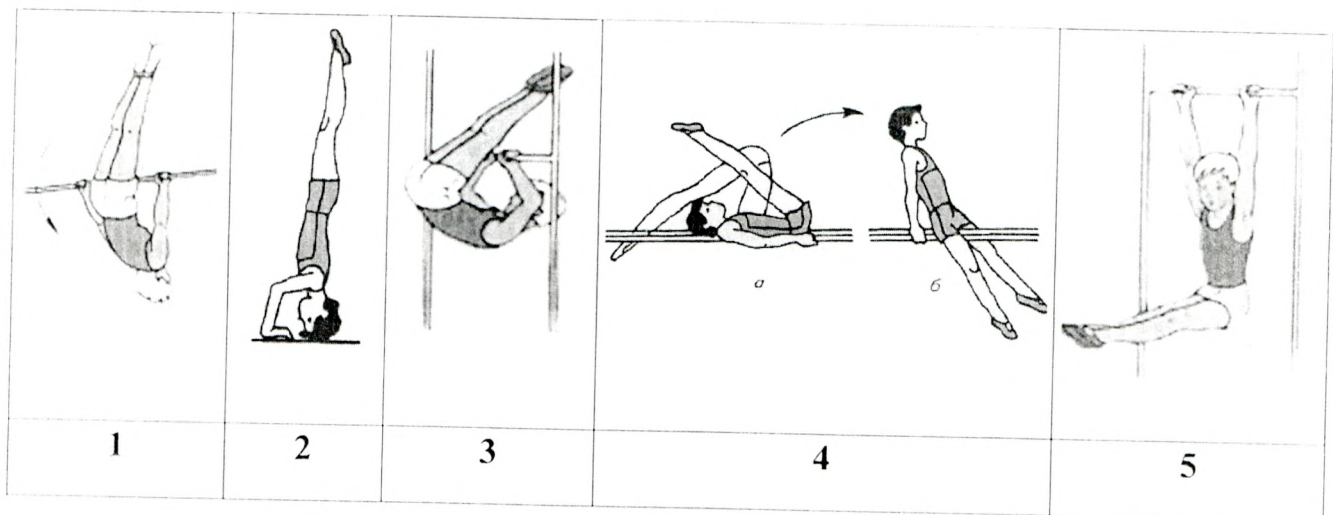
Отметьте все позиции!

- а) единоборства
 б) длительный кросс
 в) передвижение на лыжах
 г) упражнения силового характера
 д) езда на велосипеде
 е) плавание

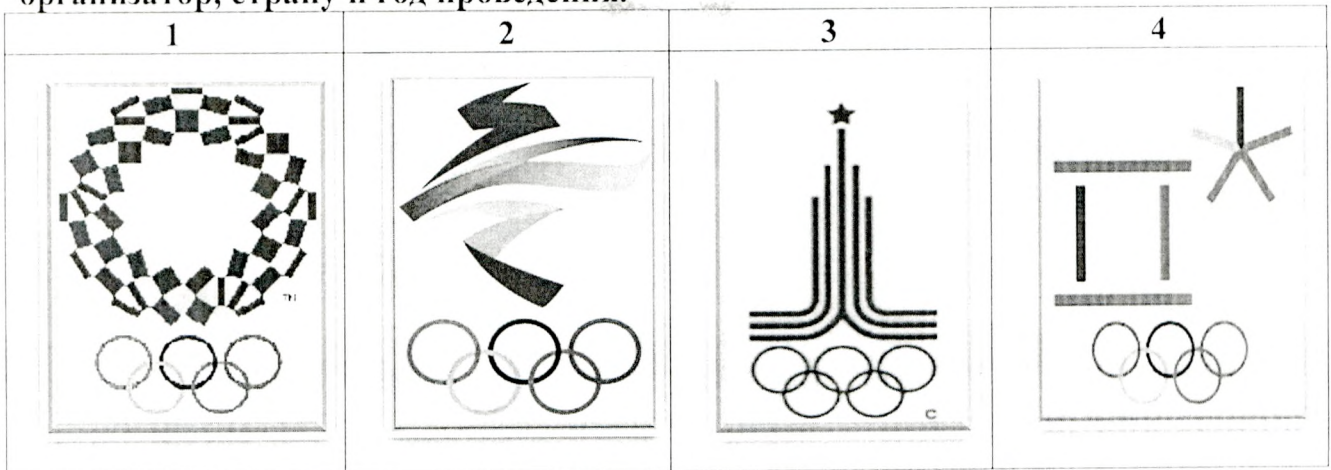
17. Установите правильную последовательность выполнения упражнений для освоения опорного прыжка ноги врозь.

1. С 2-3 шагов разбега вскок в упор стоя согнувшись ноги врозь и соскок прогнувшись.
2. В упоре лёжа отталкивание руками с хлопком в ладони.
3. Прыжок ноги врозь через козла с разбега с помощью и самостоятельно.
4. В упоре лёжа прогнуться и одновременно отталкиваясь руками и ногами, прийти в стойку ноги врозь.
5. С 2-3 шагов разбега вскок в упор присев на козла и соскок ноги врозь.
6. Из упора лёжа толчком ног перейти в упор стоя согнувшись ноги врозь и быстро выпрямиться.

18. Самый престижный вид соревнований Олимпийских игр в Древней Греции...
19. Элемент прыжка, бега и других упражнений, обеспечивающий продвижение тела спортсмена вперед-вверх. Выполняется путем разгибания опорной ноги или двух ног.
20. Внешнее сопротивление движению (гиря, штанга), усложняющее выполнение упражнения, способствующее увеличению мышечных усилий.
21. Какая латинская буква выступает обязательным элементом логотипа Всемирных студенческих игр?
22. Обусловленное правилами соревнований неподвижное положение атлета со штангой над головой на выпрямленных руках, ноги и туловище прямые, ступни ног на одной линии, параллельной грифу.
23. Какое место в неофициальном медальном зачёте заняла сборная СССР на Играх XXIII Олимпиады?
24. Спортивный снаряд, применяемый спортсменами для спуска по ледяной трассе. Состоит из двух полозьев, двух лонжеронов, двух поперечных кронштейнов и обтекателя. Гонщик, управляет снарядом лежа на спине, надавливая ногами на полозья или прилагая усилия на ручки переднего кронштейна.
25. Часть сектора для толкания ядра, прикрывает кольцо круга для толкания сверху и совпадает с ним внутренней поверхностью.
26. Напишите Фамилию Имя первого олимпийца Красноярского края, принимавшего участие в Играх XV Олимпиады в Хельсинки.
27. В бланке ответов запишите названия гимнастических упражнений и положений, представленных на рисунках.



28. По представленным эмблемам напишите номер Олимпийских игр, город-организатор, страну и год проведения.



29. ЗАДАЧА.


Используя представленную сетку турнира по футболу ответьте на вопросы.

1. Какие команды встретились в финале турнира?
2. Какая команда стала победителем турнира?
3. С какой стадии соревнований начался турнир по футболу?
4. До какой стадии соревнований дошла команда Алания?



30. Установите соответствие между Фамилией, Именем и видом спорта в котором выступали прославленные спортсмены Красноярского края.

Фамилия		Имя		Вид спорта	
1	Олонин	1	Светлана	1	скелетон
2	Шумаков	2	Никита	2	Лёгкая атлетика
3	Сидько	3	Николай	3	биатлон
4	Трунеников	4	Евгений	4	сноуборд
5	Сухарнова	5	Алексей	5	бобслей
6	Трегубов	6	Дмитрий	6	Лыжные гонки
7	Мастеркова	7	Алёна	7	баскетбол
8	Успогов	8	Ольга	8	Греко-римская борьба



**Муниципальный этап всероссийской олимпиады школьников
по физической культуре 2023 - 2024 учебный год
Теоретическая часть: 9 – 11 класс**

Инструкция по выполнению заданий

Вам предлагаются задания, основанные на содержании основной образовательной программы основного общего образования.

Задания объединены в 7 групп:

1 группа (1 – 13 вопросы). Задания в закрытой форме, с предложенными вариантами ответов. Задания представлены в форме незавершенных утверждений, которые, при завершении, могут оказаться либо истинными, либо ложными. Правильным является то, которое наиболее полно соответствует смыслу утверждения. При выполнении этих заданий, необходимо выбрать только один правильный ответ!

2 группа (14 - 16 вопросы). Задания в закрытой форме, с несколькими предложенными вариантами ответов. Это условие указано в задании «Отметьте все позиции!». При выполнении этих заданий, необходимо выбрать несколько правильных ответов.

Выбранные варианты ответов группы 1 и 2 отмечаются зачеркиванием соответствующего квадрата в бланке ответов.

3 группа (17 вопрос). Задания в которых необходимо установить последовательность предложенных вариантов ответов. Ответы вписывайте в соответствующую графу бланка ответов. Жюри оценивает каждую, представленную позицию.

4 группа (18 - 26 вопрос). Задания в открытой форме, то есть, без предложенных вариантов ответов. При выполнении этого задания, необходимо самостоятельно подобрать вариант ответа, который, завершая высказывание, образует истинное утверждение. Подобранный ответ вписывайте в соответствующую графу бланка ответов. Записи должны быть разборчивыми. Жюри оценивает каждую представленную Вами позицию.

5 группа (27 - 28 вопрос). Визуальные задания, в которых необходимо написать вариант ответа, который соответствует представленной картинке. Ответы вписывайте в соответствующую графу бланка ответов. Жюри оценивает каждую, представленную позицию.

6 группа (29 вопрос). Задание-задача. По представленным данным следует ответить на поставленные вопросы. Записи выполняйте в бланке ответов.

7 группа (30 вопрос). Задание, в котором необходимо установить соответствие между предложенными вариантами.

Внимательно читайте задания и предлагаемые варианты ответов. Старайтесь не угадывать, а логически обосновывать сделанный Вами выбор. Пропускайте незнакомые задания. Это позволит сэкономить время для выполнения других заданий. Впоследствии, Вы сможете вернуться к пропущенному заданию.

Все ответы на предложенные задания вписываются в бланк ответов! Будьте внимательны, делая записи в бланке ответов. Исправления и подчистки оцениваются как неправильный ответ.

Время выполнения заданий – 45 минут!

Желаем удачи!

1. На каком расстоянии от мяча ставится «стенка», при выполнении штрафного удара в футболе?
 - а) не ближе 7,25 м
 - б) не ближе 9 м
 - в) не ближе 9,15 м
 - г) не ближе 11 м
2. Как называлась песня дуэта Монсеррат Кабалье и Фредди Меркьюри, ставшая гимном Игр XXV Олимпиады?
 - а) Мельбурн
 - б) Барселона
 - в) Атланта
 - г) Мюнхен
3. С какого расстояния производится стрельба из электронного и пневматического оружия при сдаче норм ВФСК «ГТО»?
 - а) 10 м
 - б) 13 м
 - в) 12 м
 - г) 15 м
4. В каком году состоялись первые Игры доброй воли в Москве?
 - а) в 1986 году
 - б) в 1987 году
 - в) в 1988 году
 - г) в 1990 году
5. Вид движения, которое направлено в сторону от срединной части тела вокруг сагиттальной оси?
 - а) супинация
 - б) отведение
 - в) пронация
 - г) приведение
6. Какой способ удара по мячу в футболе, считается самым сильным?
 - а) пяткой
 - б) серединой подъёма
 - в) внешней стороной стопы
 - г) внутренней стороной стопы
7. В программу первых Олимпийских зимних игр 1924 года в Шамони, было включено два вида лыжного спорта...
 - а) гонки на 18 и 50 км среди мужчин
 - б) гонки на 10 и 30 км среди мужчин
 - в) гонки на 10 и 20 км
 - г) гонки на 8 и 15 км
8. Сколько огневых рубежей, в биатлонной эстафетной гонке, проходит каждая команда?
 - а) 4 огневых рубежа
 - б) 8 огневых рубежей
 - в) 12 огневых рубежей
 - г) 16 огневых рубежей
9. Как лыжники и биатлонисты называют кубок мира, который получает спортсмен по итогам зачётных индивидуальных гонок текущего соревновательного года?
 - а) кубок лыжни
 - б) золотой глобус
 - в) король лыжни
 - г) большой хрустальный глобус
10. В лапте место, откуда совершаются перебежки игроками, выполнившими удары по мячу...
 - а) город
 - б) околица
 - в) городище
 - г) пригород

11. Для обозначения координат на шахматной доске используются буквы и цифры. Цифрами обозначают...

- а) диагонали
- б) горизонтали
- в) первую вертикаль
- г) вертикали

12. Кто из гимнасток получил прозвище «королева брусьев» за исполнение очень сложных элементов на этом снаряде?

- а) Светлана Хоркина
- б) Ольга Корбут
- в) Людмила Туришчева
- г) Лариса Латынина

13. Как называются церемонии, которые проходят на объектах соревнований сразу после объявлений результатов?

- а) цветочные церемонии
- б) торжественные церемонии
- в) медальные церемонии
- г) поздравительные церемонии

14. Отметьте новые дисциплины, включённые в программу XXIV Олимпийских зимних игр в Пекине 2022. Отметьте все позиции!

- а) командные соревнования в горнолыжном спорте
- б) смешанная эстафета в шорт-треке
- в) смешанные командные соревнования по фристайлу в акробатике
- г) мужские одиночные соревнования по скелетону
- д) женские одиночные соревнования по бобслею
- е) масс-старт в конькобежном спорте (мужчины и женщины)

15. Какие из представленных упражнений принято называть скоростно-силовыми?

Отметьте все позиции!

- а) бег на 100 м
- б) метание мяча на дальность
- в) прыжки в длину с места
- г) отжимания в упоре лёжа
- д) лазание по канату
- е) прыжки в высоту

16. Отметьте основные средства для развития общей выносливости.

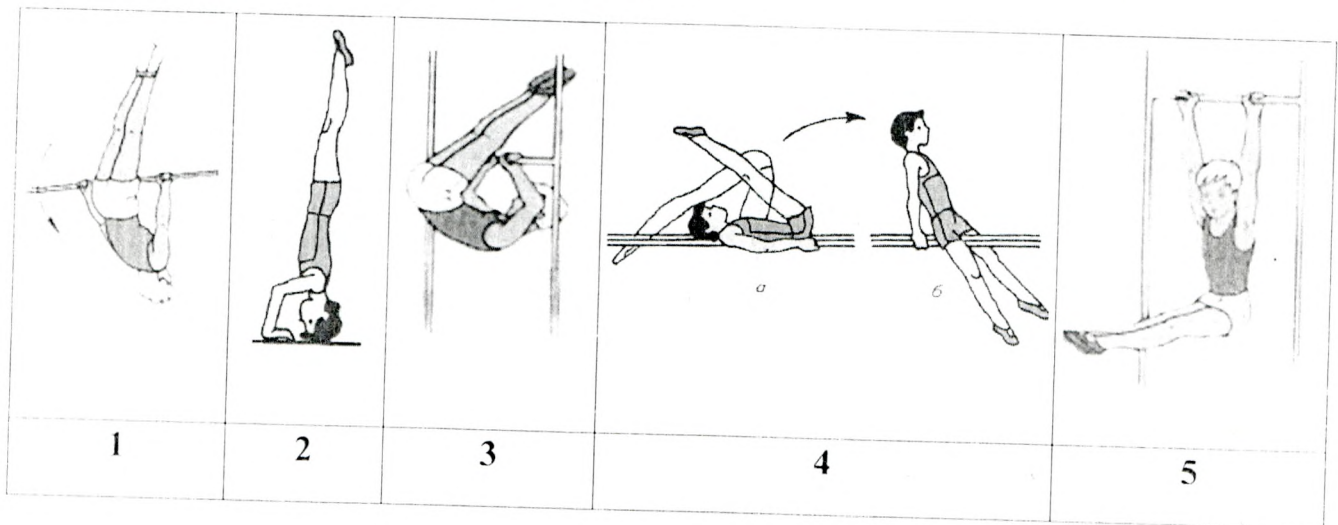
Отметьте все позиции!

- а) единоборства
- б) длительный кросс
- в) передвижение на лыжах
- г) упражнения силового характера
- д) езда на велосипеде
- е) плавание

17. Установите правильную последовательность выполнения упражнений для освоения опорного прыжка ноги врозь.

1. С 2-3 шагов разбега вскок в упор стоя согнувшись ноги врозь и соскок прогнувшись.
2. В упоре лёжа отталкивание руками с хлопком в ладони.
3. Прыжок ноги врозь через козла с разбега с помощью и самостоятельно.
4. В упоре лёжа прогнуться и одновременно отталкиваясь руками и ногами, прийти в стойку ноги врозь.
5. С 2-3 шагов разбега вскок в упор присев на козла и соскок ноги врозь.
6. Из упора лёжа толчком ног перейти в упор стоя согнувшись ноги врозь и быстро выпрямиться.

18. Самый престижный вид соревнований Олимпийских игр в Древней Греции...
19. Элемент прыжка, бега и других упражнений, обеспечивающий продвижение тела спортсмена вперед-вверх. Выполняется путем разгибания опорной ноги или двух ног.
20. Внешнее сопротивление движению (гиря, штанга), усложняющее выполнение упражнения, способствующее увеличению мышечных усилий.
21. Какая латинская буква выступает обязательным элементом логотипа Всемирных студенческих игр?
22. Обусловленное правилами соревнований неподвижное положение атлета со штангой над головой на выпрямленных руках, ноги и туловище прямые, ступни ног на одной линии, параллельной грифу.
23. Какое место в неофициальном медальном зачёте заняла сборная СССР на Играх XXIII Олимпиады?
24. Спортивный снаряд, применяемый спортсменами для спуска по ледяной трассе. Состоит из двух полозьев, двух лонжеронов, двух поперечных крошштейнов и обтекателя. Гонщик, управляет снарядом лежа на спине, надавливая ногами на полозья или прилагая усилия на ручки переднего крошштейна.
25. Часть сектора для толкания ядра, прикрывает кольцо круга для толкания сверху и совпадает с ним внутренней поверхностью.
26. Напишите Фамилию Имя первого олимпийца Красноярского края, принимавшего участие в Играх XV Олимпиады в Хельсинки.
27. В бланке ответов запишите названия гимнастических упражнений и положений, представленных на рисунках.



Барыбасов Умар

Муниципальный этап всероссийской олимпиады школьников
по физической культуре 2023 – 2024 учебный год
Теоретико - методическое задание 9 – 11 класс

БЛАНК ОТВЕТОВ

Шифр ФК 227

№ вопроса	Варианты ответов					
	А	Б	В	Г	---	---
1	А	Б	В	Г	---	---
2	А	Б	В	Г	---	---
3	А	Б	В	Г	---	---
4	А	Б	В	Г	---	---
5	А	Б	В	Г	---	---
6	А	Б	В	Г	---	---
7	А	Б	В	Г	---	---
8	А	Б	В	Г	---	---
9	А	Б	В	Г	---	---
10	А	Б	В	Г	---	---
11	А	Б	В	Г	---	---
12	А	Б	В	Г	---	---
13	А	Б	В	Г	---	---
14	А	Б	В	Г	Д	---
15	А	Б	В	Г	Д	Е
16	А	Б	В	Г	Д	Е

56
27,58

17. 2-6-4-5-1-3

18.

19. ОТТАЛКИВАНИЕ

20. ОТЯЖОЩЕНИЕ

21. U

22. ФИКСАЦИЯ

23. НЕ УЧАСТВОВАЛА

24. СЛНИ

25. СЕГМЕНТ

26. ИВАН СЕМЁНОВ

27.

1. ОБОРОТ ВПЕРЕД НА ПЕРЕКЛАДНИКЕ 2. СТОЯКА НА ГОЛОВЕ И РУКАХ

3. ВИС СОГНУВШИХСЯ СВЕРХУ 4. ПОСЪЁМ РАЗЛИКОМ ВСЕХ НОГИ В ПОС.

5. ВИС УГЛОМ

28.

1.

2.

3.

29.

1. СПАРТАК и УСКА

2. СПАРТАК

3. С 1/4 ФИНАЛА ИЛИ ЧЕТВЕРТЬФИНАЛА

4. 1/2 ФИНАЛ ИЛИ ПОЛУФИНАЛ

30.

1	2	3	4	5	6	7	8
3-4	5-8	4-6	6-15	8-7	2-1	1-2	4-3

28. По представленным эмблемам напишите номер Олимпийских игр, город-организатор, страну и год проведения.



29. ЗАДАЧА.

Используя представленную сетку турнира по футболу ответьте на вопросы.

1. Какие команды встретились в финале турнира?
2. Какая команда стала победителем турнира?
3. С какой стадии соревнований начался турнир по футболу?
4. До какой стадии соревнований дошла команда Алания?



30. Установите соответствие между Фамилией, Именем и видом спорта в котором выступали прославленные спортсмены Красноярского края.

Фамилия		Имя		Вид спорта	
1	Олонин	1	Светлана	1	скелетон
2	Шумаков	2	Никита	2	Лёгкая атлетика
3	Сидько	3	Николай	3	биатлон
4	Труненок	4	Евгений	4	сноуборд
5	Сухарнова	5	Алексей	5	бобслей
6	Трегубов	6	Дмитрий	6	Лыжные гонки
7	Мастеркова	7	Алёна	7	баскетбол
8	Успогов	8	Ольга	8	Греко-римская борьба

1. На каком расстоянии от мяча ставится «стенка», при выполнении штрафного удара в футболе?
а) не ближе 7,25 м
б) не ближе 9 м
в) не ближе 9,15 м
г) не ближе 11 м
2. Как называлась песня дуэта Монсеррат Кабалье и Фредди Меркьюри, ставшая гимном Игр XXV Олимпиады?
а) Мельбурн
б) Барселона
в) Атланта
г) Мюнхен
3. С какого расстояния производится стрельба из электронного и пневматического оружия при сдаче норм ВФСК «ГТО»?
а) 10 м
б) 13 м
в) 12 м
г) 15 м
4. В каком году состоялись первые Игры доброй воли в Москве?
а) в 1986 году
б) в 1987 году
в) в 1988 году
г) в 1990 году
5. Вид движения, которое направлено в сторону от срединной части тела вокруг сагиттальной оси?
а) супинация
б) отведение
в) пронация
г) приведение
6. Какой способ удара по мячу в футболе, считается самым сильным?
а) пяткой
б) серединой подъёма
в) внешней стороной стопы
г) внутренней стороной стопы
7. В программу первых Олимпийских зимних игр 1924 года в Шамони, было включено два вида лыжного спорта...
а) гонки на 18 и 50 км среди мужчин
б) гонки на 10 и 30 км среди мужчин
в) гонки на 10 и 20 км
г) гонки на 8 и 15 км
8. Сколько огневых рубежей, в биатлонной эстафетной гонке, проходит каждая команда?
а) 4 огневых рубежа
б) 8 огневых рубежей
в) 12 огневых рубежей
г) 16 огневых рубежей
9. Как лыжники и биатлонисты называют кубок мира, который получает спортсмен по итогам зачётных индивидуальных гонок текущего соревновательного года?
а) кубок лыжни
б) золотой глобус
в) король лыжни
г) большой хрустальный глобус
10. В ланте место, откуда совершаются перебежки игроками, выполнившими удары по мячу...
а) город
б) околица
в) городище
г) пригород

Муниципальный этап всероссийской олимпиады школьников
по физической культуре 2023 - 2024 учебный год
Теоретическая часть: 9 – 11 класс

Инструкция по выполнению заданий

Вам предлагаются задания, основанные на содержании основной образовательной программы основного общего образования.

Задания объединены в 7 групп:

1 группа (1 – 13 вопросы). Задания в закрытой форме, с предложенными вариантами ответов. Задания представлены в форме незавершенных утверждений, которые, при завершении, могут оказаться либо истинными, либо ложными. Правильным является то, которое наиболее полно соответствует смыслу утверждения. При выполнении этих заданий, необходимо выбрать только один правильный ответ!

2 группа (14 – 16 вопросы). Задания в закрытой форме, с несколькими предложенными вариантами ответов. Это условие указано в задании «Отметьте все позиции!». При выполнении этих заданий, необходимо выбрать несколько правильных ответов.

Выбранные варианты ответов группы 1 и 2 отмечаются зачеркиванием соответствующего квадрата в бланке ответов.

3 группа (17 вопрос). Задания в которых необходимо установить последовательность предложенных вариантов ответов. Ответы вписывайте в соответствующую графу бланка ответов. Жюри оценивает каждую, представленную позицию.

4 группа (18 – 26 вопрос). Задания в открытой форме, то есть, без предложенных вариантов ответов. При выполнении этого задания, необходимо самостоятельно подобрать вариант ответа, который, завершая высказывание, образует истинное утверждение. Подобранный ответ вписывайте в соответствующую графу бланка ответов. Записи должны быть разборчивыми. Жюри оценивает каждую представленную Вами позицию.

5 группа (27 – 28 вопрос). Визуальные задания, в которых необходимо написать вариант ответа, который соответствует представленной картинке. Ответы вписывайте в соответствующую графу бланка ответов. Жюри оценивает каждую, представленную позицию.

6 группа (29 вопрос). Задание-задача. По представленным данным следует ответить на поставленные вопросы. Записи выполняйте в бланке ответов.

7 группа (30 вопрос). Задание, в котором необходимо установить соответствие между предложенными вариантами.

Внимательно читайте задания и предлагаемые варианты ответов. Старайтесь не угадывать, а логически обосновывать сделанный Вами выбор. Пропускайте знакомые задания. Это позволит сэкономить время для выполнения других заданий. Впоследствии, Вы сможете вернуться к пропущенному заданию.

Все ответы на предложенные задания вписываются в бланк ответов! Будьте внимательны, делая записи в бланке ответов. Исправления и подчистки оцениваются как неправильный ответ.

Время выполнения заданий – 45 минут!

Желаем удачи!

17. 2-6-4-5-1-3

18. —

19. оттапливание

20. отечественная

21. U

22. фиксация

23. не удовлетворяли

24. сами

25. сегмент

26. Уолл Серендип

27.

1. оторван вперед не переключил 2. отапли на газове и рулях

3. все соизмеряется с силой 4. погубил размышл в сег трон ^{бюро}

5. все ушло

28.

1. Спортмак и Ц

2.

3.

29.

1. Спортмак и ЦСКА

2. Спортмак

3. с 1/4 финала

4. 1/2 полуфинала

30.

1	2	3	4	5	6	7	8
3-4	5-8	7-6	6-5	8-7	2-1	1-2	4-3

26.5

~~54~~
39

Машакин Артём

Муниципальный этап всероссийской олимпиады школьников
по физической культуре 2023 – 2024 учебный год
Теоретико - методическое задание 9 – 11 класс

БЛАНК ОТВЕТОВ

Шифр ФК 217

№ вопроса	Варианты ответов					
	А	Б	В	Г	---	---
1	А	Б	В	Г	---	---
2	А	Б	В	Г	---	---
3	А	Б	В	Г	---	---
4	А	Б	В	Г	---	---
5	А	Б	В	Г	---	---
6	А	Б	В	Г	---	---
7	А	Б	В	Г	---	---
8	А	Б	В	Г	---	---
9	А	Б	В	Г	---	---
10	А	Б	В	Г	---	---
11	А	Б	В	Г	---	---
12	А	Б	В	Г	---	---
13	А	Б	В	Г	---	---
14	А	Б	В	Г	---	---
15	А	Б	В	Г	Д	Е
16	А	Б	В	Г	Д	Е